


# BURUKETAK



**SORTUZZ**



1

**12 gaileta badituzu eta berdin partekatu nahi badituzu 3 lagunen artean, zenbat gaileta jasoko ditu lagun bakoitzak?**

ZER GALDETZEN DIT?

\_\_\_\_\_

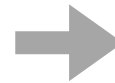
DATUAK

\_\_\_\_\_  
\_\_\_\_\_  
\_\_\_\_\_  
\_\_\_\_\_

ERAGIKETA

\_\_\_\_\_

IRUDIKATU 



EMAITZA

2

**18 gozoki dituzu eta 6 poltsa berdinetan jarri nahi dituzu. Zenbat gozoki sartuko dituzu poltsa bakoitzean?**

ZER GALDETZEN DIT?

\_\_\_\_\_

DATUAK

\_\_\_\_\_  
\_\_\_\_\_  
\_\_\_\_\_  
\_\_\_\_\_

ERAGIKETA

\_\_\_\_\_

IRUDIKATU 



EMAITZA

3

**Klasean 24 ikasle eta 4 mahain badaude, zenbat ikasle eser daitezke mahai bakoitzean?**

ZER GALDETZEN DIT?



DATUAK

---

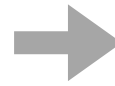
---

---

---

IRUDIKATU

ERAGIKETA



EMAITZA

4

**15 jostailu badituzu eta 5 kutxatan berdin banatu nahi badituzu, zenbat jostailu egongo dira kutxa bakoitzean?**

ZER GALDETZEN DIT?



DATUAK

---

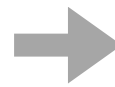
---

---

---

IRUDIKATU

ERAGIKETA



EMAITZA

5

**27 pegatina badituzu eta 9 orritan era berean itsatsi nahi badituzu, zenbat pegatina egongo dira orri bakoitzean?**

ZER GALDETZEN DIT?

\_\_\_\_\_ ?

DATUAK

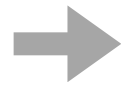
\_\_\_\_\_  
\_\_\_\_\_  
\_\_\_\_\_  
\_\_\_\_\_

IRUDIKATU 

\_\_\_\_\_

ERAGIKETA

\_\_\_\_\_



EMAITZA

\_\_\_\_\_

6

**20 txokolate dituzu eta 4 lagunei berdin eman nahi diezu. Zenbat txokolate jasoko ditu lagun bakoitzak?**

ZER GALDETZEN DIT?

\_\_\_\_\_ ?

DATUAK

\_\_\_\_\_  
\_\_\_\_\_  
\_\_\_\_\_  
\_\_\_\_\_

IRUDIKATU 

\_\_\_\_\_

ERAGIKETA

\_\_\_\_\_



EMAITZA

\_\_\_\_\_

7

**30 kanika badituzu eta 10 poltsatan sartu nahi badituzu, zenbat kanika egongo dira poltsa bakoitzean?**

ZER GALDETZEN DIT?



DATUAK

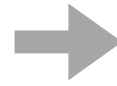
---

---

---

---

ERAGIKETA



IRUDIKATU

EMAITZA

8

**Baserri batean 35 oilo daude eta bakoitzak 7 oiloentzako edukiera duten kutxetan jarri nahi dituzu. Zenbat kutxa behar dituzu?**

ZER GALDETZEN DIT?



DATUAK

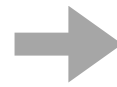
---

---

---

---

ERAGIKETA



IRUDIKATU

EMAITZA

9

**48 posit dituzu eta berdin banatu nahi dituzu 6 koadernotan. Zenbat posit jarriko dituzu koaderno bakoitzean?**

ZER GALDETZEN DIT?

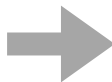
\_\_\_\_\_ ?

DATUAK

\_\_\_\_\_  
\_\_\_\_\_  
\_\_\_\_\_  
\_\_\_\_\_

IRUDIKATU 

ERAGIKETA



EMAITZA

10

**Lorategi batean 50 lore badaude eta bakoitzak 5 loretarako edukiera duten lorontzietan jarri nahi badituzu, zenbat lorontzi behar dituzu?**

ZER GALDETZEN DIT?

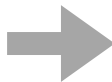
\_\_\_\_\_ ?

DATUAK

\_\_\_\_\_  
\_\_\_\_\_  
\_\_\_\_\_  
\_\_\_\_\_

IRUDIKATU 

ERAGIKETA



EMAITZA

11

**21 liburu dituzu eta bakoitzak 3 libururentzako lekua duten apaletan antolatu nahi dituzu. Zenbat apal behar dituzu?**

ZER GALDETZEN DIT?



DATUAK

---

---

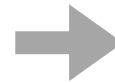
---

---

ERAGIKETA

IRUDIKATU

EMAITZA



12

**36 arrautza badituzu eta bakoitzak 6 arrautzetarako edukiera duten kartoietan banatu nahi badituzu, zenbat kartoi behar dituzu?**

ZER GALDETZEN DIT?



DATUAK

---

---

---

---

ERAGIKETA

IRUDIKATU

EMAITZA



13

**Baserri batean 45 behi daude bostnaka Talde Katy nahi baditugu, zenbat talde egin behar dituzu?**

ZER GALDETZEN DIT?



DATUAK

---

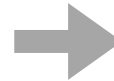
---

---

---

IRUDIKATU

ERAGIKETA



EMAITZA

14

**54 arkatz dituzu eta 6 estutxetan banatu nahi dituzu. Zenbat arkatz jarriko dituzu estutxe bakoitzean?**

ZER GALDETZEN DIT?



DATUAK

---

---

---

---

IRUDIKATU

ERAGIKETA



EMAITZA



15

**63 gozoki badaude eta bakoitzak 7 gozokitarako edukiera duten poltsetan sartu nahi badituzu, zenbat poltza behar dituzu?**

ZER GALDETZEN DIT?

\_\_\_\_\_ ?

DATUAK

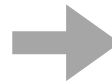
\_\_\_\_\_  
\_\_\_\_\_  
\_\_\_\_\_  
\_\_\_\_\_

ERAGIKETA

\_\_\_\_\_

IRUDIKATU 

\_\_\_\_\_



EMAITZA

\_\_\_\_\_

16

**28 karta dituzu eta 4 jokalarien artean banatu nahi dituzu. Zenbat karta banatuko diezu partaide bakoitzari?**

ZER GALDETZEN DIT?

\_\_\_\_\_ ?

DATUAK


\_\_\_\_\_  
\_\_\_\_\_  
\_\_\_\_\_  
\_\_\_\_\_

ERAGIKETA

\_\_\_\_\_

IRUDIKATU 

\_\_\_\_\_



EMAITZA

\_\_\_\_\_

17

**40 jostailu badituzu eta 8 hurrei banatu nahi badiezu, zenbat jostailu jasoko du haur bakoitza?**

ZER GALDETZEN DIT?



DATUAK

---

---

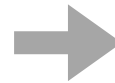
---

---

ERAGIKETA

IRUDIKATU

EMAITZA



18

**Festa batean 30 globo daude eta 3 logeletan banatu nahi dituzu. Zenbat globo jarriko dituzu logela bakoitzean?**

ZER GALDETZEN DIT?



DATUAK

---

---

---

---

ERAGIKETA

IRUDIKATU

EMAITZA



19

**32 orri dituzu ikasteko hurrengo 4 egunetan. Zenbat orrilde ikasi behar dituzu egunero?**

ZER GALDETZEN DIT?

\_\_\_\_\_ ?

DATUAK

\_\_\_\_\_  
\_\_\_\_\_  
\_\_\_\_\_

**IRUDIKATU** 

\_\_\_\_\_

**ERAGIKETA**

\_\_\_\_\_

**EMAITZA**

\_\_\_\_\_

20

**Klase batean 42 ikasle eta 6 mahai baldin badaude, zenbat ikasle eser daitezke mahai bakoitzean?**

ZER GALDETZEN DIT?

\_\_\_\_\_ ?

DATUAK

\_\_\_\_\_  
\_\_\_\_\_  
\_\_\_\_\_

**IRUDIKATU** 

\_\_\_\_\_

**ERAGIKETA**

\_\_\_\_\_

**EMAITZA**

\_\_\_\_\_

21

**56 txokolate dituzu eta berdin banatu nahi dituzu 8 kutxatan. Zenbat txokolate egongo dira kutxa bakoitzean?**

ZER GALDETZEN DIT?



DATUAK

---

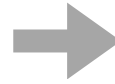
---

---

---

IRUDIKATU

ERAGIKETA



EMAITZA

22

**49 sagar badituzu eta 7 kutxatan antolatu nahi badituzu, zenbat sagar egongo dira kutxa bakoitzean?**

ZER GALDETZEN DIT?



DATUAK

---


---

---

---

IRUDIKATU

ERAGIKETA



EMAITZA

23

**60 kanika dituzu eta 12 poltsatan sartu nahi dituzu, zenbat kanika egongo dira poltsa bakoitzean?**

ZER GALDETZEN DIT?



DATUAK


---

---

---

---

ERAGIKETA



IRUDIKATU

EMAITZA

24

**Baserri batean 72 zaldi daude eta bakoitzak 8 kortetan banatzen baditugu, zenbat zaldi egongo dira korta bakoitzean?**

ZER GALDETZEN DIT?



DATUAK


---

---

---

---

ERAGIKETA



IRUDIKATU

EMAITZA

25

**64 orrialde daukan liburu bat irakurri behar duzu. Egunero 8 orrialde irakurritzen badituzu, zenbat egunetan bukatuko duzu?**

ZER GALDETZEN DIT?

\_\_\_\_\_

DATUAK

\_\_\_\_\_  
\_\_\_\_\_  
\_\_\_\_\_  
\_\_\_\_\_

ERAGIKETA

\_\_\_\_\_

IRUDIKATU 

\_\_\_\_\_

EMAITZA

\_\_\_\_\_

26

**Hitzaldi batean 96 pertsona izena eman dute. Bi saioetan banatu behar badituzu, zenbat pertsona joango dira saio bakoitzera?**

ZER GALDETZEN DIT?

\_\_\_\_\_

DATUAK

\_\_\_\_\_  
\_\_\_\_\_  
\_\_\_\_\_  
\_\_\_\_\_

ERAGIKETA

\_\_\_\_\_

IRUDIKATU 

\_\_\_\_\_

EMAITZA

\_\_\_\_\_

27

**81 liburu dituzu eta bakoitzak 9 libururentzako lekua duten apaletan antolatu nahi dituzu. Zenbat apal behar dituzu?**

ZER GALDETZEN DIT?

\_\_\_\_\_ ?

DATUAK

\_\_\_\_\_  
\_\_\_\_\_  
\_\_\_\_\_  
\_\_\_\_\_

IRUDIKATU 

ERAGIKETA

EMAITZA

28

**90 kromo badituzu eta alubumeko orrialde bakoitzean 10 jartzen badituzu. Zenbat orrialde beteko dituzu?**

ZER GALDETZEN DIT?

\_\_\_\_\_ ?

DATUAK

\_\_\_\_\_  
\_\_\_\_\_  
\_\_\_\_\_  
\_\_\_\_\_

IRUDIKATU 

ERAGIKETA

EMAITZA

29

**Eskola batean 100 ikasle daude. 15eko geletan banatu behar baditugu, zenbat ikasle egongo dira gela bakoitzean?**

ZER GALDETZEN DIT?

\_\_\_\_\_ ?

DATUAK


\_\_\_\_\_  
\_\_\_\_\_  
\_\_\_\_\_

IRUDIKATU 

\_\_\_\_\_

ERAGIKETA

\_\_\_\_\_



EMAITZA

\_\_\_\_\_

30

**Pelikula bat 85 minutuko iraupena dauka. 3 egunetan ikusi nahi badut, zenbat minutu ikusiko ditut egunero?**

ZER GALDETZEN DIT?

\_\_\_\_\_ ?

DATUAK


\_\_\_\_\_  
\_\_\_\_\_  
\_\_\_\_\_

IRUDIKATU 

\_\_\_\_\_

ERAGIKETA

\_\_\_\_\_



EMAITZA

\_\_\_\_\_