

PROBLEMES



SORTUZZ



1

**La Sara tenia 12 caramels i se'n va menjar 5.
Quants caramels li queden?**


QUÈ EM PREGUNTA?



DADES:

HO REPRESENTO

OPERACIONS



RESULTAT

2

**En un estany hi havia 17 ànecs. Més tard 9 ànecs van marxar.
Quants ànecs queden?**


QUÈ EM PREGUNTA?



DADES:

HO REPRESENTO

OPERACIONS



RESULTAT

3

Si tens 18 bales i en perds 4, quantes bales et queden?


QUÈ EM PREGUNTA?



DADES:

HO REPRESENTO

OPERACIONS



RESULTAT

4

**Tens 27€ i compres una joguina que costa 14 €.
Quants diners et queden?**


QUÈ EM PREGUNTA?



DADES:

HO REPRESENTO

OPERACIONS



RESULTAT

5

**En una botiga hi ha 35 llapis i en compren 18.
Quants llapis queden a la botiga?**


QUÈ EM PREGUNTA?



DADES:

HO REPRESENTO

OPERACIONS



RESULTAT

6

**El Joan tenia 32 xocolatines i en va donar 15 al seu amic.
Quantes xocolatines li queden al Joan?**


QUÈ EM PREGUNTA?



DADES:

HO REPRESENTO

OPERACIONS



RESULTAT

7

Si tenies 56 llibres i en vas deixar 23 als teus amics, quants llibres tens ara?

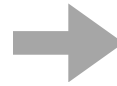
QUÈ EM PREGUNTA?



DADES:

HO REPRESENTO

OPERACIONS



RESULTAT

8

En un jardí hi havia 42 flors. Més tard van collir 19 flors. Quantes flors queden al jardí?


QUÈ EM PREGUNTA?



DADES:

HO REPRESENTO

OPERACIONS



RESULTAT

9

**La Marta tenia 48 segells i en va vendre 12.
Quants segells li queden?**


QUÈ EM PREGUNTA?



DADES:

HO REPRESENTO

OPERACIONS



RESULTAT

10

**Si tens 64 bales i li'n dones 28 al teu germà,
quantes bales et queden?**


QUÈ EM PREGUNTA?



DADES:

HO REPRESENTO

OPERACIONS



RESULTAT

11

Hi havia 75 caramels en una bossa. Després, algú en va agafar 39. Quants caramels queden a la bossa?

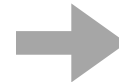
QUÈ EM PREGUNTA?



DADES:

HO REPRESENTO

OPERACIONS



RESULTAT

12

En una granja hi havia 88 vaques. Van vendre 31 vaques. Quantes vaques queden a la granja?


QUÈ EM PREGUNTA?



DADES:

HO REPRESENTO

OPERACIONS



RESULTAT

13

Si tens 97 globus i se'n desinflen 53, quants globus queden inflats?


QUÈ EM PREGUNTA?



DADES:

HO REPRESENTO

OPERACIONS



RESULTAT

14

**La Maria té 105 nines i en regala 62.
Quantes nines li queden a la Maria?**


QUÈ EM PREGUNTA?



DADES:

HO REPRESENTO

OPERACIONS



RESULTAT

15

En una biblioteca hi havia 124 llibres d'aventures. Després de fer préstec de 46, quants llibres d'aventures hi queden?


QUÈ EM PREGUNTA?



DADES:

HO REPRESENTO

OPERACIONS



RESULTAT

16

En una botiga de joguines hi havia 67 nines. Durant el dia en van vendre 28. Quantes nines queden a la botiga?


QUÈ EM PREGUNTA?



DADES:

HO REPRESENTO

OPERACIONS



RESULTAT

17

Si tens 78 bales i jugant en perds 15, quantes bales tens ara?

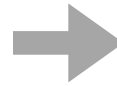
QUÈ EM PREGUNTA?



DADES:

HO REPRESENTO

OPERACIONS



RESULTAT

18

Hi ha 120 caramels en un pot. Si en reparteixes 58 entre els teus amics, quants caramels queden al pot?


QUÈ EM PREGUNTA?



DADES:

HO REPRESENTO

OPERACIONS



RESULTAT

19

En una botiga de roba hi havia 92 samarretes. Si en compren 37, quantes samarretes queden a la botiga?


QUÈ EM PREGUNTA?



DADES:

HO REPRESENTO

OPERACIONS



RESULTAT

20

En Joan tenia 135 segells i li'n dona 89 al seu germà. Quants segells li queden al Joan?


QUÈ EM PREGUNTA?



DADES:

HO REPRESENTO

OPERACIONS



RESULTAT

21

Si tens 97€ i et compres unes sabates que costen 42€, quants diners et queden?

QUÈ EM PREGUNTA?



DADES:

HO REPRESENTO

OPERACIONS



RESULTAT

22

Hi ha 78 globus en una festa. Se n'emporten 26. Quants globus queden a la festa?


QUÈ EM PREGUNTA?



DADES:

HO REPRESENTO

OPERACIONS



RESULTAT

23

En una biblioteca hi havia 98 llibres de misteri. Després de fer préstec de 61, quants llibres de misteri queden?

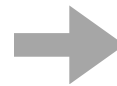
QUÈ EM PREGUNTA?



DADES:

HO REPRESENTO

OPERACIONS



RESULTAT

24

En un campament hi havia 116 nens i nenes. En van marxar 47. Quants nens i nenes queden al campament?


QUÈ EM PREGUNTA?



DADES:

HO REPRESENTO

OPERACIONS



RESULTAT

25

**Si tens 79 fitxes d'escacs i en perds 34,
quantes fitxes d'escacs et queden?**

QUÈ EM PREGUNTA?



DADES:

HO REPRESENTO 

OPERACIONS

RESULTAT

26

**Hi ha 85 caramels en una bossa i algú n'agafa 29.
Quants caramels queden a la bossa?**

QUÈ EM PREGUNTA?



DADES:

HO REPRESENTO 

OPERACIONS

RESULTAT

27

En una botiga d'electrònica hi havia 94 telèfons. En van comprar 57. Quants telèfons queden a la botiga?


QUÈ EM PREGUNTA?



DADOS:

HO REPRESENTO

OPERACIONS



RESULTAT

28

La Maria tenia 107 flors al seu jardí. Si en ven 63, quantes flors li queden?


QUÈ EM PREGUNTA?



DADES:

HO REPRESENTO

OPERACIONS



RESULTAT

29


Si tens 89 ninos i en perds 46, quants ninos et queden?

QUÈ EM PREGUNTA?

DADES:

HO REPRESENTO 

OPERACIONS



RESULTAT

30

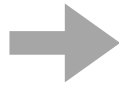
En una granja hi havia 102 vaques. Després de vendre'n 68, quantes vaques queden a la granja?

QUÈ EM PREGUNTA?

DADES:

HO REPRESENTO 

OPERACIONS



RESULTAT
