


# PROBLEMAS

---



**SORTUZZ**



1

**Si tienes 12 galletas y quieres compartirlas entre 3 amigos de manera igual, ¿cuántas galletas recibirá cada amigo?**

QUE ME PREGUNTA?



DATOS:

---


---

---

---

REPRESENTACIÓN

OPERACIONES



RESULTADO

2

**Tienes 18 caramelos y quieres ponerlos en 6 bolsas iguales. ¿Cuántos caramelos pondrás en cada bolsa?**

QUE ME PREGUNTA?



DATOS:

---


---

---

---

REPRESENTACIÓN

OPERACIONES



RESULTADO

3

**Si hay 24 alumnos en una clase y 4 mesas, ¿cuántos alumnos se pueden sentar en cada mesa?**

QUE ME PREGUNTA?



DATOS:

---


---

---

---

REPRESENTACIÓN

OPERACIONES



RESULTADO

4

**Si tienes 15 juguetes y quieres distribuirlos en 5 cajas por igual, ¿cuántos juguetes habrá en cada caja?**

QUE ME PREGUNTA?



DATOS:

---

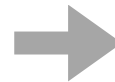
---

---

---

REPRESENTACIÓN

OPERACIONES



RESULTADO

5

**Si tienes 27 stickers y quieres pegarlos en 9 hojas de papel de la misma manera, ¿cuántos stickers habrá en cada hoja?**

QUE ME PREGUNTA?

\_\_\_\_\_ ?

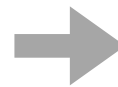
DATOS:

\_\_\_\_\_  
\_\_\_\_\_  
\_\_\_\_\_  
\_\_\_\_\_

**OPERACIONES**

\_\_\_\_\_

**REPRESENTACIÓN** 



**RESULTADO**

6

**Tienes 20 chocolates y quieres dárselos a 4 amigos por igual. ¿Cuántos chocolates recibirá cada amigo?**

QUE ME PREGUNTA?

\_\_\_\_\_ ?

DATOS:

\_\_\_\_\_  
\_\_\_\_\_  
\_\_\_\_\_  
\_\_\_\_\_

**OPERACIONES**

\_\_\_\_\_

**REPRESENTACIÓN** 



**RESULTADO**

7

**Si tienes 30 canicas y quieres ponerlas en 10 bolsas, ¿cuántas canicas habrá en cada bolsa?**

QUE ME PREGUNTA?



DATOS:

---

---

---

---

REPRESENTACIÓN 

OPERACIONES



RESULTADO

8

**En una granja hay 35 pollos y quieres ponerlos en corrales en grupos de 7. ¿Cuántos corrales necesitas?**

QUE ME PREGUNTA?



DATOS:

---


---

---

---

REPRESENTACIÓN 

OPERACIONES



RESULTADO

9

Tienes 48 plátanos y quieres repartirlas en 6 cestas por igual. ¿Cuántos plátanos pondrás en cada cuaderno?

QUE ME PREGUNTA?



DATOS:

---


---

---

---

REPRESENTACIÓN

OPERACIONES



RESULTADO

10

Si hay 50 flores en un jardín y quieres colocar 5 en cada maceta, ¿cuántas macetas necesitas?

QUE ME PREGUNTA?



DATOS:

---

---

---

---

REPRESENTACIÓN

OPERACIONES



RESULTADO

11

Tienes 21 libros y quieres organizarlos en estantes con espacio para 3 libros cada uno. ¿Cuántos estantes necesitas?

QUE ME PREGUNTA?



DATOS:

---


---

---

---

REPRESENTACIÓN 

OPERACIONES



RESULTADO

12

Si tienes 36 huevos y los quieres repartir en cartones con capacidad para 6 huevos cada uno, ¿cuántos cartones necesitas?

QUE ME PREGUNTA?



DATOS:

---

---

---

---

REPRESENTACIÓN 

OPERACIONES



RESULTADO

13

**En una granja hay 45 vacas y quieres repartirlas en 5 campas diferentes por igual. ¿Cuántas vacas colocarás en cada campa?**

QUE ME PREGUNTA?

\_\_\_\_\_

DATOS:


\_\_\_\_\_  
\_\_\_\_\_  
\_\_\_\_\_

OPERACIONES

\_\_\_\_\_

REPRESENTACIÓN 

\_\_\_\_\_



RESULTADO

\_\_\_\_\_

14

**Tienes 54 lápices y quieres distribuirlos en 6 estuches por igual. ¿Cuántos lápices pondrás en cada estuche?**

QUE ME PREGUNTA?

\_\_\_\_\_

DATOS:


\_\_\_\_\_  
\_\_\_\_\_  
\_\_\_\_\_

OPERACIONES

\_\_\_\_\_

REPRESENTACIÓN 

\_\_\_\_\_



RESULTADO

\_\_\_\_\_



15

**Si hay 63 caramelos y quieres repartirlos entre 7 amigos por igual, ¿cuántos caramelos repartirás a cada uno??**

QUE ME PREGUNTA?



DATOS:

---


---

---

---

REPRESENTACIÓN

OPERACIONES



RESULTADO

16

**Tienes 28 cartas y quieres repartirlas entre 4 personas por igual. ¿Cuántas cartas recibirá cada jugador?**

QUE ME PREGUNTA?



DATOS:

---

---

---

---

REPRESENTACIÓN

OPERACIONES



RESULTADO

17

**Si tienes 40 juguetes y quieres ponerlos en cajas con capacidad para 8 juguetes cada una, ¿cuántas cajas necesitas?**

QUE ME PREGUNTA?



DATOS:

---

---


---

---

REPRESENTACIÓN 

OPERACIONES

RESULTADO



18

**En una fiesta hay 30 globos y quieres distribuirlos en grupos con 5 globos. ¿Cuántos grupos formarás?**

QUE ME PREGUNTA?



DATOS:

---

---

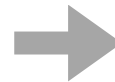
---

---

REPRESENTACIÓN 

OPERACIONES

RESULTADO



19

Tienes 32 prendas y quieres organizarlo en 4 cajones por igual.  
¿Cuántas prendas tendrá cada cajón?

QUE ME PREGUNTA?



DATOS:

---


---

---

---

REPRESENTACIÓN

OPERACIONES



RESULTADO

20

Si hay 42 estudiantes en una clase y 6 mesas, ¿cuántos  
estudiantes se pueden sentar en cada mesa?

QUE ME PREGUNTA?



DATOS:

---

---

---

---

REPRESENTACIÓN

OPERACIONES



RESULTADO

21

Tienes 56 chocolatinas y quieres repartirlos en 8 cajas por igual. ¿Cuántas chocolatinas habrá en cada caja?

QUE ME PREGUNTA?

\_\_\_\_\_ ?

DATOS:


\_\_\_\_\_  
\_\_\_\_\_  
\_\_\_\_\_

REPRESENTACIÓN 

\_\_\_\_\_

OPERACIONES

\_\_\_\_\_



RESULTADO

\_\_\_\_\_

22

Si tienes 49 monedas y quieres separarlo en 7 tarros por igual, ¿cuántas monedas habrá en cada tarro?

QUE ME PREGUNTA?

\_\_\_\_\_ ?

DATOS:


\_\_\_\_\_  
\_\_\_\_\_  
\_\_\_\_\_

REPRESENTACIÓN 

\_\_\_\_\_

OPERACIONES

\_\_\_\_\_



RESULTADO

\_\_\_\_\_

23

**Tienes 60 canicas y en cada partida apuestas 6. ¿Cuántas partidas podrás jugar?**

QUE ME PREGUNTA?



DATOS:

---


---

---

---

REPRESENTACIÓN

OPERACIONES



RESULTADO

24

**Una gallina pone 45 huevos a la semana. Si todos los días pone los mismos, ¿cuántos huevos pone al día?**

QUE ME PREGUNTA?



DATOS:

---

---

---

---

REPRESENTACIÓN

OPERACIONES



RESULTADO

25

**Tienes 64 posit y quieres repartirlos en 8 cuadernos por igual. ¿Cuántas posit pondrás en cada cuaderno?**

QUE ME PREGUNTA?

\_\_\_\_\_ ?

DATOS:


\_\_\_\_\_  
\_\_\_\_\_  
\_\_\_\_\_

**OPERACIONES**

\_\_\_\_\_

**REPRESENTACIÓN** 

\_\_\_\_\_



**RESULTADO**

\_\_\_\_\_

26

**En un colegio hay 100 alumnos. Si los distribuiremos en 5 clases por igual, ¿cuántos alumnos habrá en cada clase?**

QUE ME PREGUNTA?

\_\_\_\_\_ ?

DATOS:

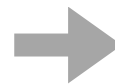
\_\_\_\_\_  
\_\_\_\_\_  
\_\_\_\_\_

**OPERACIONES**

\_\_\_\_\_

**REPRESENTACIÓN** 

\_\_\_\_\_



**RESULTADO**

\_\_\_\_\_

27

**Un libro tiene 120 páginas. Si cada día lees 10 páginas, ¿en cuántos días terminarás el libro?**

QUE ME PREGUNTA?

\_\_\_\_\_

DATOS:


\_\_\_\_\_  
\_\_\_\_\_  
\_\_\_\_\_

REPRESENTACIÓN 

\_\_\_\_\_

OPERACIONES

\_\_\_\_\_



RESULTADO

\_\_\_\_\_

28

**En una frutería han sobrado 45 mandarinas. Si las repartimos entre los próximos 5 clientes, ¿cuántas mandarinas daremos a cada cliente?**

QUE ME PREGUNTA?

\_\_\_\_\_

DATOS:

\_\_\_\_\_  
\_\_\_\_\_  
\_\_\_\_\_

REPRESENTACIÓN 

\_\_\_\_\_

OPERACIONES

\_\_\_\_\_



RESULTADO

\_\_\_\_\_

29

**Una película dura 140 minutos. Si cada día vemos 20 minutos, ¿en cuántos días terminaremos la película?**

QUE ME PREGUNTA?



DATOS:

---


---

---

---

REPRESENTACIÓN

OPERACIONES



RESULTADO

30

**En un zoo hay 88 monos. Si los separamos en 11 jaulas por igual, ¿cuántos monos pondremos en cada jaula?**

QUE ME PREGUNTA?



DATOS:

---

---

---

---

REPRESENTACIÓN

OPERACIONES



RESULTADO