


PROBLEMES



SORTUZZ



TRADUCCIÓN:  Mestradepri

1

En Joan té 5 pomes i la María li dóna 3 pomes més. Quantes pomes té en Joan en total?

QUE EM PREGUNTA?

DADES:

HO REPRESENTO 

OPERACIONS



RESULTAT

2

En una caixa hi ha 7 llàpissos de colors i en una altra n'hi ha 4. Quants llàpissos hi ha en total?

QUE EM PREGUNTA?

DADES:

HO REPRESENTO 

OPERACIONS



RESULTAT



3

Si tens 6 galetes i en compres 2 més, quantes en tens ara?


QUE EM PREGUNTA?

_____ ?

DADES:

HO REPRESENTO 

OPERACIONS



RESULTAT

4

**En un estany hi ha 9 ànecs. N'arriben 2 més.
Quants ànecs hi ha ara?**


QUE EM PREGUNTA?

_____ ?

DADES:

HO REPRESENTO 

OPERACIONS



RESULTAT

5

Si tens 8 bales i te'n regalen 5 més, quantes bales tens en total?


QUE EM PREGUNTA?



DADES:

HO REPRESENTO 

OPERACIONS



RESULTAT

6

Tens 12 caramels, i el teu amic te'n dóna 7 més. Quants caramels tens ara?

QUE EM PREGUNTA?



DADES:

HO REPRESENTO 

OPERACIONS



RESULTAT

7

Al jardí hi ha 6 flors vermelles i 4 flors grogues. Quantes flors hi ha en total?


QUE EM PREGUNTA?



DADES:

HO REPRESENTO 

OPERACIONS



RESULTAT

8

Si tens 15 cotxes de joguina i el teu germà te'n dóna 6, quants cotxes de joguina tens ara?

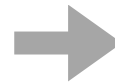
QUE EM PREGUNTA?



DADES:

HO REPRESENTO 

OPERACIONS



RESULTAT

9

En una caja hay 11 libros, y en otra hay 8. ¿Cuántos libros hay en total?


QUE ME PREGUNTA?



DATOS:

REPRESENTACIÓN

OPERACIONES



RESULTADO

10

María tenía 9 muñecas, y su amiga le regaló 3 más. ¿Cuántas muñecas tiene María ahora?

QUE ME PREGUNTA?



DATOS:

REPRESENTACIÓN

OPERACIONES



RESULTADO

11

En una granja, había 14 vacas y llegaron 5 más. ¿Cuántas vacas hay en total?


QUE ME PREGUNTA?



DATOS:

REPRESENTACIÓN

OPERACIONES



RESULTADO

12

En un juego de cartas, tienes 7 cartas y tu primo te da 2 más. ¿Cuántas cartas tienes ahora?

QUE ME PREGUNTA?



DATOS:

REPRESENTACIÓN

OPERACIONES



RESULTADO

13

Si tienes 10 globos inflados y 3 desinflados, ¿cuántos globos tienes en total?


QUE ME PREGUNTA?



DATOS:

REPRESENTACIÓN

OPERACIONES



RESULTADO

14

Tienes 18 botones en un frasco y tu hermana tiene 9 más. ¿Cuántos botones teneis entre los dos?


QUE ME PREGUNTA?



DATOS:

REPRESENTACIÓN

OPERACIONES



RESULTADO

15

**En una tienda de juguetes, hay 34 muñecos y 19 carros.
¿Cuántos juguetes hay en total?**

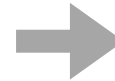
QUE ME PREGUNTA?



DATOS:

REPRESENTACIÓN

OPERACIONES



RESULTADO

16

**Si tienes 56€ y tu abuela te da 27€ más,
¿cuánto dinero tienes ahora?**

QUE ME PREGUNTA?



DATOS:

REPRESENTACIÓN

OPERACIONES



RESULTADO

17

En una biblioteca, había 46 libros de ciencia ficción y 89 libros de biografías. ¿Cuántos libros hay en total en la biblioteca?


QUE ME PREGUNTA?



DATOS:

REPRESENTACIÓN

OPERACIONES



RESULTADO

18

En un campamento, había 276 niños. Después llegaron 124 más. ¿Cuántos niños hay en el campamento ahora?

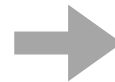
QUE ME PREGUNTA?



DATOS:

REPRESENTACIÓN

OPERACIONES



RESULTADO

19

Si tienes 520 canicas y tu amigo te da 387, ¿cuántas canicas tendrás en total?

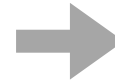
QUE ME PREGUNTA?



DATOS:

REPRESENTACIÓN

OPERACIONES



RESULTADO

20

María tenía 79€ en ahorros, y después de su cumpleaños, su familia le dio 34€ más. ¿Cuánto dinero tiene María ahora?

QUE ME PREGUNTA?



DATOS:

REPRESENTACIÓN

OPERACIONES



RESULTADO

21

En una tienda de ropa, había 215 camisetas y 138 pantalones. ¿Cuántas prendas de ropa hay en total?

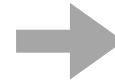
QUE ME PREGUNTA?



DATOS:

REPRESENTACIÓN

OPERACIONES



RESULTADO

22

Si tienes 61 caramelos y tu hermano 28, ¿cuántos caramelos tenéis en total?

QUE ME PREGUNTA?



DATOS:

REPRESENTACIÓN

OPERACIONES



RESULTADO

23

En una tienda de electrónica, hay 416 teléfonos y 259 tabletas. ¿Cuántos dispositivos electrónicos hay en total?


QUE ME PREGUNTA?

_____ ?

DATOS:

REPRESENTACIÓN 

OPERACIONES



RESULTADO

24

En una feria, había 782 personas en la mañana y 596 personas llegaron por la tarde. ¿Cuántas personas asistieron en total?

QUE ME PREGUNTA?

_____ ?

DATOS:

REPRESENTACIÓN 

OPERACIONES



RESULTADO

25

Marta tiene 115 sellos y su hermano le da 48 más. ¿Cuántos sellos tiene Marta ahora?


QUE ME PREGUNTA?

_____ ?

DATOS:

REPRESENTACIÓN 

OPERACIONES



RESULTADO

26

En una caja hay 243 bolitas de colores, y en otra hay 158. ¿Cuántas bolitas hay en total?

QUE ME PREGUNTA?

_____ ?

DATOS:

REPRESENTACIÓN 

OPERACIONES



RESULTADO

27


Si tienes 89 libros en una estantería y compras 37 libros más, ¿cuántos libros tendrás en total?

QUE ME PREGUNTA?

DATOS:

REPRESENTACIÓN 

OPERACIONES



RESULTADO

28


En una biblioteca, había 364 libros de aventuras y 219 libros de misterio. ¿Cuántos libros hay en total?

QUE ME PREGUNTA?

DATOS:

REPRESENTACIÓN 

OPERACIONES



RESULTADO

29

Si tienes 753 fichas de ajedrez y tu amigo te presta 325, ¿cuántas fichas de ajedrez tendrás en total?

QUE ME PREGUNTA?

_____ ?

DATOS:

REPRESENTACIÓN 

OPERACIONES



RESULTADO

30

En una tienda de electrónica, hay 782 televisores y 369 ordenadores. ¿Cuántos dispositivos electrónicos hay en total?

QUE ME PREGUNTA?

_____ ?

DATOS:

REPRESENTACIÓN 

OPERACIONES



RESULTADO
