

# PROBLEMAS



# DECIMALES





1

Juan fue a la librería a comprar materiales escolares. Compró un cuaderno (2,50€), un bolígrafo (1,20€) y una goma de borrar (0,85€). Si pagó con 5€, ¿cuánto le sobró?

**ME GASTO:**

$$\begin{array}{r} 2,50 \text{ €} \\ + 1,20 \text{ €} \\ 0,85 \text{ €} \\ \hline 4,55 \text{ €} \end{array}$$

**PAGO CON:**

$$\begin{array}{r} 10,00 \text{ €} \\ - 4,55 \text{ €} \\ \hline 05,45 \text{ €} \end{array}$$

**ME SOBRA:**



2

Ana compró en la frutería un kilo de manzanas (1,60€), un kilo de naranjas (2,20€) y un melón (3,10€). Si pagó con 10€, ¿cuánto le sobró?

**ME GASTO:**

**PAGO CON:**

**ME SOBRA:**



3

Roberto fue a la farmacia a comprar medicamentos. Compró aspirinas (3,75€), jarabe para la tos (4,50€) y un paquete de tiritas (1,25€). Si pagó con 10€, ¿cuánto le sobró?

**ME GASTO:**

**PAGO CON:**

**ME SOBRA:**






4

Marta fue a la tienda de ropa y compró una camiseta (12,50€), unos calcetines (3,75€) y una bufanda (5,60€). Si pagó con 25€, ¿cuánto le sobró?

**ME GASTO:**

**PAGO CON:**

**ME SOBRA:**



5

Carlos fue a la papelería y compró una carpeta (1,80€), un paquete de folios (2,40€) y una regla (0,95€). Si pagó con 10€, ¿cuánto le sobró?

**ME GASTO:**

**PAGO CON:**

**ME SOBRA:**



6

Laura fue al mercado a comprar verduras. Compró una lechuga (1,20€), dos kilos de tomates (2,80€) y una bolsa de zanahorias (1,50€). Si pagó con 10€, ¿cuánto le sobró?

**ME GASTO:**

**PAGO CON:**

**ME SOBRA:**






7

Daniel fue a la gasolinera y compró una botella de agua (1,20€), un bocadillo (3,50€) y una chocolatina (1,30€). Si pagó con 10€, ¿cuánto le sobró?

**ME GASTO:**

**PAGO CON:**

**ME SOBRA:**



8

Susana fue al supermercado a comprar productos para el desayuno. Compró una caja de cereales (3,25€), un litro de leche (1,05€) y un tarro de miel (4,75€). Si pagó con 10€, ¿cuánto le sobró?

**ME GASTO:**

**PAGO CON:**

**ME SOBRA:**




9

Javier fue a la tienda de tecnología y compró unos auriculares (9,90€), una funda para el móvil (5,50€) y un cargador (7,60€). Si pagó con 25€, ¿cuánto le sobró?

**ME GASTO:**

**PAGO CON:**

**ME SOBRA:**





**10** Patricia fue a la tienda de mascotas y compró un saco de pienso para perros (15,75€), un juguete (4,25€) y una correa (6,40€). Si pagó con 30€, ¿cuánto le sobró?

**ME GASTO:**

**PAGO CON:**

**ME SOBRA:**



**11** Laura fue a la tienda de electrodomésticos y compró una plancha (34,95€), una batidora (25,75€) y una tostadora (19,30€). Si pagó con 100€, ¿cuánto le sobró?

**ME GASTO:**

**PAGO CON:**

**ME SOBRA:**




**12** Pedro fue a la tienda de bricolaje y compró una caja de herramientas (45,50€), una lámpara (28,80€) y una pintura (16,70€). Si pagó con 100€, ¿cuánto le sobró?

**ME GASTO:**

**PAGO CON:**

**ME SOBRA:**






**13** Ana fue a la tienda de deportes y compró unas zapatillas deportivas (49,90€), una camiseta (22,45€) y unos pantalones cortos (15,60€). Si pagó con 100€, ¿cuánto le sobró?

**ME GASTO:**

**PAGO CON:**

**ME SOBRA:**



**14** Luis fue a la tienda de música y compró una guitarra (69,50€), una funda para guitarra (18,30€) y un afinador (8,90€). Si pagó con 100€, ¿cuánto le sobró?

**ME GASTO:**

**PAGO CON:**

**ME SOBRA:**



**15** María fue a una joyería y compró un reloj (58,75€), una pulsera (23,20€) y unos pendientes (15,50€). Si pagó con 100€, ¿cuánto le sobró?

**ME GASTO:**

**PAGO CON:**

**ME SOBRA:**






16

Jorge fue a una tienda de electrónica y compró unos auriculares inalámbricos (65,95€), una funda para tablet (17,50€) y un cable de carga (12,90€). Si pagó con 100€, ¿cuánto le sobró?

**ME GASTO:**

**PAGO CON:**

**ME SOBRA:**



17

Isabel fue a una tienda de muebles y compró una mesa auxiliar (48,70€), una lámpara de pie (32,40€) y un cojín decorativo (9,95€). Si pagó con 100€, ¿cuánto le sobró?

**ME GASTO:**

**PAGO CON:**

**ME SOBRA:**



18

Roberto fue a una tienda de jardinería y compró una manguera (25,90€), un cortacésped (55,80€) y unas tijeras de podar (15,20€). Si pagó con 100€, ¿cuánto le sobró?

**ME GASTO:**

**PAGO CON:**

**ME SOBRA:**






19

Carla fue a una tienda de bicicletas y compró un casco (35,75€), unos guantes (12,40€) y una luz trasera (9,85€). Luego compró una bicicleta (99€). Si pagó con 150€, ¿cuánto le sobró?

**ME GASTO:**

**PAGO CON:**

**ME SOBRA:**



20

Jaime fue a una tienda de pesca y compró una caña de pescar (45,60€), un carrete (22,75€) y una caja de señuelos (18,50€). Si pagó con 100€, ¿cuánto le sobró?

**ME GASTO:**

**PAGO CON:**

**ME SOBRA:**



21

Marta fue a una tienda de electrodomésticos y compró una nevera (175,50€), un microondas (65,30€) y una batidora (35,20€). Si pagó con 300€, ¿cuánto le sobró?

**ME GASTO:**

**PAGO CON:**

**ME SOBRA:**








22

Carlos fue a una tienda de muebles y compró un sofá (220,75€), una mesa de centro (89,50€) y dos sillas (45,25€ cada una). Si pagó con 500€, ¿cuánto le sobró?

**ME GASTO:**

**PAGO CON:**

**ME SOBRA:**



23

Ana fue a una tienda de tecnología y compró un portátil (499,99€), una funda (29,99€) y un ratón inalámbrico (19,99€). Si pagó con 600€, ¿cuánto le sobró?

**ME GASTO:**

**PAGO CON:**

**ME SOBRA:**



24

Juan fue a una tienda de deportes y compró una bicicleta de montaña (375,00€), un casco (45,75€) y unos guantes (22,30€). Si pagó con 500€, ¿cuánto le sobró?

**ME GASTO:**

**PAGO CON:**

**ME SOBRA:**






25

Laura fue a una tienda de ropa y compró un abrigo (180,00€), un vestido (95,50€) y unos zapatos (75,25€). Si pagó con 400€, ¿cuánto le sobró?

**ME GASTO:**

**PAGO CON:**

**ME SOBRA:**



26

Pedro fue a una tienda de bricolaje y compró una sierra eléctrica (135,99€), un taladro (89,50€) y una escalera (59,99€). Si pagó con 300€, ¿cuánto le sobró?

**ME GASTO:**

**PAGO CON:**

**ME SOBRA:**



27

Isabel fue a una tienda de joyería y compró un collar (250,00€), un anillo (150,00€) y unos pendientes (95,50€). Si pagó con 600€, ¿cuánto le sobró?

**ME GASTO:**

**PAGO CON:**

**ME SOBRA:**






**28** Luis fue a una tienda de música y compró un teclado (199,99€), unos altavoces (75,50€) y un soporte para teclado (49,99€). Si pagó con 400€, ¿cuánto le sobró?

**ME GASTO:**

**PAGO CON:**

**ME SOBRA:**



**29** María fue a una tienda de mascotas y compró una jaula grande para pájaros (120,00€), un saco de pienso (55,75€) y un comedero automático (45,50€). Luego compró un loro (250,00€). Si pagó con 500€, ¿cuánto le sobró?

**ME GASTO:**

**PAGO CON:**

**ME SOBRA:**



**30** Javier fue a una tienda de artículos para el hogar y compró una lavadora (325,50€), una secadora (299,99€) y una plancha (55,25€). Si pagó con 700€, ¿cuánto le sobró?

**ME GASTO:**

**PAGO CON:**

**ME SOBRA:**

