



PROBLEMES



SORTUZZ



1

En Joan té 5 pomes i la Maria li dona 3 pomes més. Quantes pomes té en Joan en total?

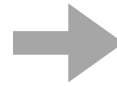
QUÈ EM PREGUNTA?



DADES:

HO REPRESENTO

OPERACIONS



RESULTAT

2

En una caixa hi ha 7 llapis de colors i en una altra n'hi ha 4. Quants llapis hi ha en total?

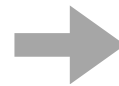
QUÈ EM PREGUNTA?



DADES:

HO REPRESENTO

OPERACIONS



RESULTAT

3

Si tens 6 galetes i en compres 2 més, quantes en tens ara?


QUÈ EM PREGUNTA?



DADES:

HO REPRESENTO

OPERACIONS



RESULTAT

4

En un estany hi ha 9 ànecs. N'arriben 2 més.
Quants ànecs hi ha ara?


QUÈ EM PREGUNTA?



DADES:

HO REPRESENTO

OPERACIONS



RESULTAT

5

Si tens 8 bales i te'n regalen 5 més, quantes bales tens en total?


QUÈ EM PREGUNTA?



DADES:

HO REPRESENTO

OPERACIONS



RESULTAT

6

Tens 12 caramels i el teu amic te'n dona 7 més. Quants caramels tens ara?


QUÈ EM PREGUNTA?



DADES:

HO REPRESENTO

OPERACIONS



RESULTAT

7

Al jardí hi ha 6 flors vermelles i 4 flors grogues. Quantes flors hi ha en total?

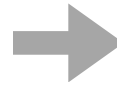
QUÈ EM PREGUNTA?



DADES:

HO REPRESENTO

OPERACIONS



RESULTAT

8

Si tens 15 cotxes de joguina i el teu germà te'n dona 6, quants cotxes de joguina tens ara?


QUÈ EM PREGUNTA?



DADES:

HO REPRESENTO

OPERACIONS



RESULTAT

9

**En una caixa hi ha 11 llibres i en una altra n'hi ha 8.
Quants llibres hi ha en total?**


QUÈ EM PREGUNTA?



DADES:

HO REPRESENTO

OPERACIONS



RESULTAT

10

**La Maria tenia 9 nines i la seva amiga li'n va regalar 3 més.
Quantes nines té ara la Maria?**


QUÈ EM PREGUNTA?



DADES:

HO REPRESENTO

OPERACIONS



RESULTAT

11

**En una granja hi havia 14 vaques i en van arribar 5 més.
Quantes vaques hi ha en total?**

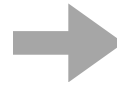
QUÈ EM PREGUNTA?



DADES:

HO REPRESENTO

OPERACIONS



RESULTAT

12

**En un joc de cartes, tens 7 cartes i el teu cosí te'n dona 2 més.
Quantes cartes tens ara?**


QUÈ EM PREGUNTA?



DADES:

HO REPRESENTO

OPERACIONS



RESULTAT

13

Si tens 10 globus inflats i 3 desinflat, quants globus tens en total?


QUÈ EM PREGUNTA?



DADES:

HO REPRESENTO

OPERACIONS



RESULTAT

14

Tens 18 botons en un pot i la teva germana en té 9 més. Quants botons teniu entre els dos?


QUÈ EM PREGUNTA?



DADES:

HO REPRESENTO

OPERACIONS



RESULTAT

15

**En una botiga de joguines hi ha 34 nines i 19 cotxets.
Quantes joguines hi ha en total?**

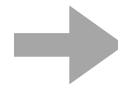
QUÈ EM PREGUNTA?



DADES:

HO REPRESENTO

OPERACIONS



RESULTAT

16

**Si tens 56€ i la teva àvia te'n dona 27€ més,
quants diners tens ara?**


QUÈ EM PREGUNTA?



DADES:

HO REPRESENTO

OPERACIONS



RESULTAT

17

En una biblioteca hi havia 46 llibres de ciència ficció i 89 llibres de biografies. Quants llibres hi ha en total a la biblioteca?

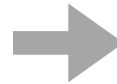
QUE EM PREGUNTA?



DADES:

HO REPRESENTO

OPERACIONS



RESULTAT

18

En un campament hi havia 276 nens. Després en van arribar 124 més. Quants nens hi ha al campament ara?


QUÈ EM PREGUNTA?



DADES:

HO REPRESENTO

OPERACIONS



RESULTAT

19

Si tens 520 bales i el teu amic te'n dona 387 més, quantes bales tindras en total?


QUÈ EM PREGUNTA?



DADES:

HO REPRESENTO

OPERACIONS



RESULTA

20

La Maria tenia 79€ estalviats i pel seu aniversari la seva familia li'n va donar 34€ més. Quants diners té la Maria ara?


QUÈ EM PREGUNTA?



DADES:

HO REPRESENTO

OPERACIONS



RESULTAT

21

En una botiga de roba hi havia 215 samarretes i 138 pantalons. Quantes peces de roba hi ha en total?

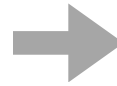
QUÈ EM PREGUNTA?



DADES:

HO REPRESENTO

OPERACIONS



RESULTAT

22

Si tens 61 caramels i el teu germà 28, quants caramels teniu en total?


QUÈ EM PREGUNTA?



DADES:

HO REPRESENTO

OPERACIONS



RESULTAT

23

**En una botiga d'electrònica hi ha 416 telèfons i 259 tauletes.
Quants aparells electrònics hi ha en total?**


QUÈ EM PREGUNTA?



DADES:

HO REPRESENTO

OPERACIONS



RESULTAT

24

**Una fira va tenir 782 persones visitants durant el matí i 596 persones
per la tarda. Quantes persones van visitar la fira en total?**

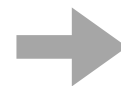
QUÈ EM PREGUNTA?



DADES:

HO REPRESENTO

OPERACIONS



RESULTAT

25

**La Marta té 115 segells i el seu germà li'n dona 48 més.
Quants segells té la Marta ara?**

QUÈ EM PREGUNTA?



DADES:

HO REPRESENTO

OPERACIONS

RESULTAT

26

**En una caixa hi ha 243 boletes de colors i en una altra n'hi ha
158. Quantes boletes hi ha en total?**

QUÈ EM PREGUNTA?



DADES:

HO REPRESENTO

OPERACIONS

RESULTAT

27

Si tens 89 llibres en una prestatgeria i en compres 37 més, quants llibres tindras en total?

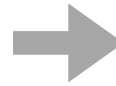
QUÈ EM PREGUNTA?



DADES:

HO REPRESENTO

OPERACIONS



RESULTAT

28

En una biblioteca hi havia 364 llibres d'aventures i 219 llibres de misteri. Quants llibres hi ha en total?


QUÈ EM PREGUNTA?



DADES:

HO REPRESENTO

OPERACIONS



RESULTAT

29

Si tens 753 fitxes d'escacs i el teu amic te'n deixa 325, quantes fitxes d'escacs tindras en total?


QUÈ EM PREGUNTA?



DADES:

HO REPRESENTO

OPERACIONS



RESULTAT

30

En una botiga d'electrònica hi ha 782 televisores i 369 ordinadors. Quants aparells electrònics hi ha en total?


QUÈ EM PREGUNTA?



DADES:

HO REPRESENTO

OPERACIONS



RESULTAT