


BURUKETAK



SORTUZZ



1

**Jonek 5 sagar ditu, eta Mariak 3 gehiago ematen dizkio.
Zenbat sagar ditu Jonek guztira?**


ZER GALDETZEN DIT?



DATUAK

IRUDIKATU

ERAGIKETA



EMAITZA

2

**Kutxa batean koloretako 7 arkatz daude eta beste batean 4.
Zenbat arkatz daude guztira?**


ZER GALDETZEN DIT?



DATUAK

IRUDIKATU

ERAGIKETA



EMAITZA

3

6 galleta badituzu eta 2 gehiago erosten badituzu, zenbat dituzu orain?

ZER GALDETZEN DIT?

_____ ?

DATUAK

ERAGIKETA

IRUDIKATU 



EMAITZA

4

Urmael batean 9 ahate daude. 2 gehiago datoz. Zenbat ahate daude orain?

ZER GALDETZEN DIT?

_____ ?

DATUAK

ERAGIKETA

IRUDIKATU 



EMAITZA

5

8 kanika badituzu eta 5 oparitzen badizkizute, zenbat kanika dituzu guztira?

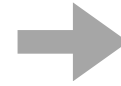
ZER GALDETZEN DIT?

_____ ?

DATUAK

ERAGIKETA

IRUDIKATU 



EMAITZA

6

12 gozoki dituzu, eta zure lagunak 7 gehiago ematen dizkizu. Zenbat gozoki dituzu orain?


ZER GALDETZEN DIT?

_____ ?

DATUAK

ERAGIKETA

IRUDIKATU 



EMAITZA

7

Lorategian, 6 lore gorri eta 4 lore hori daude. Zenbat lore daude guztira?

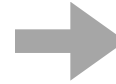
ZER GALDETZEN DIT?



DATUAK

IRUDIKATU

ERAGIKETA



EMAITZA

8

Jostailuzko 15 auto badituzu eta zure anaiak 6 ematen badizkizu, zenbat jostailuzko auto dituzu orain?

ZER GALDETZEN DIT?



DATUAK

IRUDIKATU

ERAGIKETA



EMAITZA

9

Kutxa batean 11 liburu daude, eta beste batean 8. Zenbat liburu daude guztira?

ZER GALDETZEN DIT?

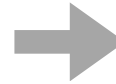


DATUAK

ERAGIKETA

IRUDIKATU

EMAITZA



10

Mariak 9 panpina zituen, eta lagunak 3 gehiago oparitu zizkion. Zenbat panpina ditu Mariak orain?

ZER GALDETZEN DIT?



DATUAK

ERAGIKETA

IRUDIKATU

EMAITZA



11

**Etxalde batean 14 behi zeuden eta beste 5 iritsi ziren.
Zenbat behi daude guztira?**

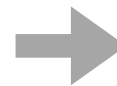
ZER GALDETZEN DIT?



DATUAK

IRUDIKATU

ERAGIKETA



EMAITZA

12

**Karta-joko batean, 7 karta dituzu eta zure lehengusuak beste 2
ematen dizkizu. Zenbat karta dituzu orain?**

ZER GALDETZEN DIT?



DATUAK

IRUDIKATU

ERAGIKETA



EMAITZA

13

10 puxika puztuta badituzu eta 3 hustuta, zenbat puxika dituzu guztira?

ZER GALDETZEN DIT?




DATUAK

ERAGIKETA

IRUDIKATU

EMAITZA



14

18 botoi dauzkazu pote batean eta zure arrebak 9 beste batean. Zenbat botoi dituzue bien artean?

ZER GALDETZEN DIT?



DATUAK

ERAGIKETA


IRUDIKATU

EMAITZA




15

**Jostailu denda batean, 34 panpina eta 19 gurdi daude.
Zenbat jostailu daude guztira?**

ZER GALDETZEN DIT? 

DATUAK

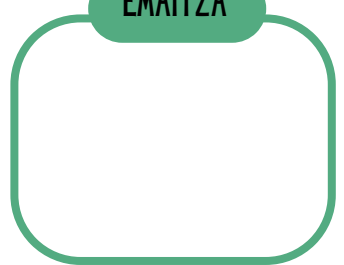
ERAGIKETA



IRUDIKATU 




EMAITZA




16

**56 €badituzu eta zure amonak 27 €gehiago ematen badizkizu,
Zenbat diru duzu orain?**

ZER GALDETZEN DIT? 

DATUAK

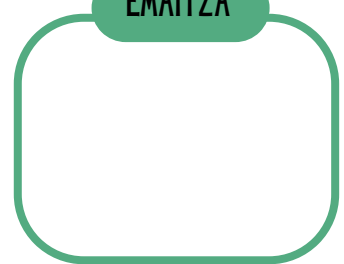
ERAGIKETA



IRUDIKATU 



EMAITZA



17

Liburutegi batean, zientzia fikziozko 46 liburu eta 89 biografia liburu zeuden. Zenbat liburu daude guztira liburutegian?

ZER GALDETZEN DIT?




DATUAK

ERAGIKETA

IRUDIKATU

EMAITZA



18

Kanpamentu batean 276 haur zeuden. Gero 124 gehiago iritsi ziren. Zenbat ume daude kanpamentuan orain?

ZER GALDETZEN DIT?

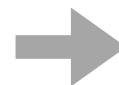


DATUAK

ERAGIKETA

IRUDIKATU

EMAITZA



19

520 kanika badituzu eta zure lagunak 387 ematen badizkizu, zenbat kanika izango dituzu guztira?

ZER GALDETZEN DIT?




DATUAK

ERAGIKETA

IRUDIKATU

EMAITZA



20

Mariak 79€ aurreztuak zituen, eta urtebetetzearen ondoren, familiak 34 € gehiago eman zizkion. Zenbat diru dauka Mariak orain?

ZER GALDETZEN DIT?



DATUAK

ERAGIKETA

IRUDIKATU

EMAITZA



21

**Arropa denda batean 215 kamiseta eta 138 praka zeuden.
Zenbat arropa daude guztira?**


ZER GALDETZEN DIT?



DATUAK

IRUDIKATU

ERAGIKETA



EMAITZA

22

**61 gozoki badituzu eta zure anaiak 28, zenbat gozoki dituzue
guztira?**


ZER GALDETZEN DIT?



DATUAK

IRUDIKATU

ERAGIKETA



EMAITZA

23

Elektronikako denda batean, 416 telefono eta 259 tableta daude. Zenbat gailu elektronikoko daude guztira?

ZER GALDETZEN DIT?

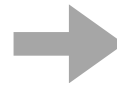


DATUAK

ERAGIKETA

IRUDIKATU

EMAITZA



24

Azoka batean, 782 pertsona zeuden goizean, eta 596 lagun iritsi ziren arratsaldean. Zenbat pertsona bertaratu ziren guztira?

ZER GALDETZEN DIT?



DATUAK

ERAGIKETA

IRUDIKATU

EMAITZA



25

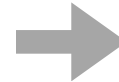
**Martak 115 zigilu ditu eta anaiak 48 gehiago ematen dizkio.
Zenbat zigilu ditu Martak orain?**

ZER GALDETZEN DIT?

DATUAK

ERAGIKETA

IRUDIKATU 



EMAITZA

26

**Kutxa batean 243 koloretako bolatxo daude, eta beste batean
158. Zenbat bolatxo daude guztira?**

ZER GALDETZEN DIT?

DATUAK

ERAGIKETA

IRUDIKATU 



EMAITZA

27

Apalategi batean 89 liburu badituzu eta 37 liburu gehiago erosten badituzu, zenbat liburu izango dituzu guztira?

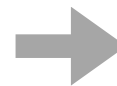
ZER GALDETZEN DIT?

_____ ?

DATUAK

IRUDIKATU 

ERAGIKETA



EMAITZA

28

Liburutegi batean, 364 abentura-liburu eta 219 misterio-liburu zeuden. Zenbat liburu daude guztira?

ZER GALDETZEN DIT?

_____ ?

DATUAK

IRUDIKATU 

ERAGIKETA



EMAITZA

29

753 xake fitxa badituzu eta zure lagunak 325 uzten badizkizu, zenbat xake fitxa izango dituzu guztira?

ZER GALDETZEN DIT?

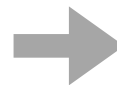


DATUAK

ERAGIKETA

IRUDIKATU

EMAITZA



30

Elektronikako denda batean, 782 telebista eta 369 ordenagailu daude. Zenbat gailu elektronikoko daude guztira?

ZER GALDETZEN DIT?



DATUAK

ERAGIKETA

IRUDIKATU

EMAITZA

