


**BURUKETAK**

---



**SORTUZZ**



1

**4 saski badaude eta saski bakoitzean 6 sagar badaude, zenbat sagar daude guztira?**

ZER GALDETZEN DIT?



DATUAK

---


---

---

---

IRUDIKATU

ERAGIKETA



EMAITZA

2

**5 txakur badaude eta bakoitzak 3 jostailu baditu, zenbat jostailu daude guztira?**

ZER GALDETZEN DIT?



DATUAK

---


---

---

---

IRUDIKATU

ERAGIKETA



EMAITZA

3

**8 pote galleta badaude eta pote bakoitzean 7 galleta badaude, zenbat galleta daude guztira?**

ZER GALDETZEN DIT?



DATUAK

---

---

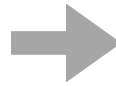
---

---

ERAGIKETA

IRUDIKATU

EMAITZA



4

**Talde batean 9 jokalari badaude eta jokalari bakoitzak 4 baloi baditu, zenbat baloi daude guztira?**

ZER GALDETZEN DIT?



DATUAK

---

---


---

---

ERAGIKETA

IRUDIKATU

EMAITZA



5

**Lerro bakoitzean 7 izar badaude eta zeruan 8 ilara badaude, zenbat izar daude guztira?**

ZER GALDETZEN DIT?



DATUAK

---

---


---

---

ERAGIKETA

IRUDIKATU

EMAITZA



6

**Kutxa bakoitzean 10 arrautza badaude eta 6 kutxa badaude, zenbat arrautza daude guztira?**

ZER GALDETZEN DIT?



DATUAK

---

---

---

---

ERAGIKETA

IRUDIKATU

EMAITZA



7

**12 lore ilara badaude eta ilara bakoitzean 5 lore badaude, zenbat lore daude guztira?**

ZER GALDETZEN DIT?

\_\_\_\_\_

DATUAK

\_\_\_\_\_  
\_\_\_\_\_  
\_\_\_\_\_

ERAGIKETA

\_\_\_\_\_

IRUDIKATU 



EMAITZA

8

**3 tren badaude eta tren bakoitzean 9 bagoi badaude, zenbat bagoi daude guztira?**

ZER GALDETZEN DIT?

\_\_\_\_\_

DATUAK

\_\_\_\_\_  
\_\_\_\_\_  
\_\_\_\_\_

ERAGIKETA

\_\_\_\_\_


IRUDIKATU 



EMAITZA


9

**6 poltsiko badituzu eta poltsiko bakoitzean 4 txanpon badaude, zenbat txanpon dituzu guztira?**

ZER GALDETZEN DIT? 

DATUAK  
\_\_\_\_\_  
\_\_\_\_\_  
\_\_\_\_\_  
\_\_\_\_\_

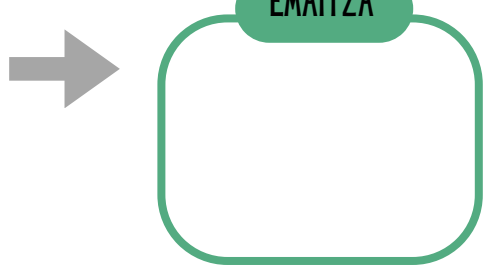
**ERAGIKETA**



**IRUDIKATU** 




**EMAITZA**




10

**5 liburu apal badaude eta apal bakoitzean 8 liburu badaude, zenbat liburu daude guztira liburutegian?**

ZER GALDETZEN DIT? 

DATUAK  
\_\_\_\_\_  
\_\_\_\_\_  
\_\_\_\_\_  
\_\_\_\_\_

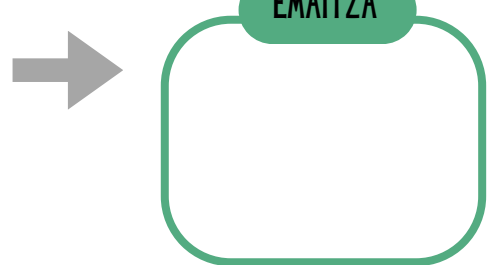
**ERAGIKETA**



**IRUDIKATU** 



**EMAITZA**



11

**Inurritegi batean 7 tunel badaude eta tunel bakoitzean 6 inurri badaude, zenbat inurri daude guztira?**

ZER GALDETZEN DIT?



DATUAK

---

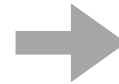
---

---

---

IRUDIKATU

ERAGIKETA



EMAITZA

12

**Zelai bakoitzean 9 asto badaude eta 4 zelai badaude, zenbat asto daude guztira?**

ZER GALDETZEN DIT?



DATUAK

---

---

---

---

IRUDIKATU

ERAGIKETA



EMAITZA

13

**Poltsa bakoitzean 5 gozoki badaude eta 10 poltsa badituzu, zenbat gozoki dituzu guztira?**

ZER GALDETZEN DIT?

\_\_\_\_\_ ?

DATUAK


\_\_\_\_\_  
\_\_\_\_\_  
\_\_\_\_\_  
\_\_\_\_\_

ERAGIKETA

\_\_\_\_\_

IRUDIKATU 

\_\_\_\_\_



EMAITZA

\_\_\_\_\_

14

**Zinemako ilara bakoitzean 8 pertsona daude. 6 ilara badaude, zenbat pertsona daude zineman?**

ZER GALDETZEN DIT?

\_\_\_\_\_ ?

DATUAK

\_\_\_\_\_  
\_\_\_\_\_  
\_\_\_\_\_  
\_\_\_\_\_

ERAGIKETA

\_\_\_\_\_

IRUDIKATU 

\_\_\_\_\_



EMAITZA

\_\_\_\_\_



15

2 kanta daude eta kanta bakoitzean 10 pilota, zenbat bola daude guztira?

ZER GALDETZEN DIT?



DATUAK

---

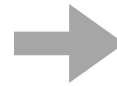
---

---

---

IRUDIKATU

ERAGIKETA



EMAITZA

16

Kutxa bakoitzean 3 jostailu badaude eta 9 kutxa badituzu, zenbat jostailu dituzu guztira?

ZER GALDETZEN DIT?



DATUAK

---

---

---

---

IRUDIKATU

ERAGIKETA



EMAITZA

17

**Astean 7 egun badituzu eta egun bakoitzean 5 zeregin egiten badituzu, zenbat egungo dituzu guztira?**

ZER GALDETZEN DIT?



DATUAK

---

---


---

---

ERAGIKETA

IRUDIKATU

EMAITZA



18

**Pakete bakoitzean 6 globo badaude eta 4 pakete badituzu, zenbat globo dituzu festarako?**

ZER GALDETZEN DIT?



DATUAK

---

---

---

---

ERAGIKETA

IRUDIKATU

EMAITZA



19

**Putzu bakoitzean 5 ahate badaude eta 3 putzu badaude, zenbat ahate daude guztira?**

ZER GALDETZEN DIT?

\_\_\_\_\_ ?

DATUAK

\_\_\_\_\_  
\_\_\_\_\_  
\_\_\_\_\_

ERAGIKETA


\_\_\_\_\_

IRUDIKATU 

\_\_\_\_\_

EMAITZA

\_\_\_\_\_



20

**Poltsa bakoitzean 4 gozoki badaude eta 12 poltsa badituzu, zenbat gozoki dituzu guztira?**

ZER GALDETZEN DIT?

\_\_\_\_\_ ?

DATUAK

\_\_\_\_\_  
\_\_\_\_\_  
\_\_\_\_\_

ERAGIKETA

\_\_\_\_\_

IRUDIKATU 

\_\_\_\_\_

EMAITZA

\_\_\_\_\_



21

**Kutxa bakoitzean 6 dozena arrautza badaude eta 5 kutxa badituzu, zenbat arrautza dituzu guztira? (Gogoratu dozena bat 12 arrautz didela).**

ZER GALDETZEN DIT?



DATUAK

---

---


---

---

IRUDIKATU

ERAGIKETA

EMAITZA



22

**Kotxe bakoitzean 5 pertsona eta 4 maleta sartzen dira. 6 auto beteta bidaiaria bat egitera bagoaz, zenbat pertsona joango gara? Eta zenbat maleta sartuko dira?**

ZER GALDETZEN DIT?



DATUAK

---

---

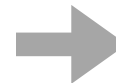
---

---

IRUDIKATU

ERAGIKETA

EMAITZA



23

**10 galleta pakete daude supermerkatuan eta pakete bakoitzean 9 galleta daude. 3 pakete erostea erabakitzen baduzu, zenbat galleta erosten dituzu guztira?**

ZER GALDETZEN DIT?



DATUAK

---


---

---

---

IRUDIKATU

ERAGIKETA



EMAITZA

24

**Nire terrazan 7 lorontzi daude. Pot bakoitzak 3 arrosa gorri eta 5 tulipa ditu. Zenbat arrosa daude guztira? Eta zenbat tulipa?**

ZER GALDETZEN DIT?



DATUAK

---

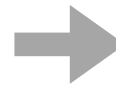
---

---

---

IRUDIKATU

ERAGIKETA



EMAITZA

25

**4 poltsa badituzu eta poltsa bakoitzean urrezko 3 txanpon eta 2 pirueta badaude, zenbat urrezko txanpon dituzu guztira? Eta zenbat pirueta?**

ZER GALDETZEN DIT?



DATUAK

---

---


---

---

IRUDIKATU

ERAGIKETA

EMAITZA



26

**Apalategi bakoitzean 10 liburu badaude eta liburutegian 8 apal badaude, zenbat liburu daude guztira?**

ZER GALDETZEN DIT?



DATUAK

---

---


---

---

IRUDIKATU

ERAGIKETA

EMAITZA



27

Apal bakoitzean 6 jostailu kaxa badaude eta kutxa bakoitzean 4 jostailu badaude, zenbat jostailu dituzu guztira 3 apaletan?

ZER GALDETZEN DIT?



DATUAK

---

---

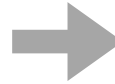
---

---

ERAGIKETA

IRUDIKATU

EMAITZA



28

Apal bakoitzean 7 gozoki pakete badaude eta pakete bakoitzean 8 gozoki badaude, zenbat gozoki daude guztira 5 apaletan?

ZER GALDETZEN DIT?



DATUAK

---

---

---

---

ERAGIKETA

IRUDIKATU

EMAITZA



29

**Zuhaitz batek 3 adar ditu eta bakoitzean 5 habi daude. Habia bakoitzean 2 txori badaude, zenbat txori daude guztira?**

ZER GALDETZEN DIT?



DATUAK

---

---


---

---

ERAGIKETA

IRUDIKATU

EMAITZA



30

**Egunero 2 € aurrezten baditut, zenbat aurreztuko dut lehenengo 4 asteetan? Eta urtebete barru?**

ZER GALDETZEN DIT?



DATUAK

---

---

---

---

ERAGIKETA

IRUDIKATU

EMAITZA

