

**BURUKETAK**

---



**SORTUZZ**



1

**Anak 15€ ditu eta amonak 12€ gehiago ematen dizkio. 14€ gastatzen baditu liburu bat erosteko, zenbat diru geratzen zaio soberan?**

ZER GALDETZEN DIT?

\_\_\_\_\_

DATUAK


\_\_\_\_\_  
\_\_\_\_\_  
\_\_\_\_\_  
\_\_\_\_\_

IRUDIKATU 

\_\_\_\_\_

ERAGIKETA

\_\_\_\_\_



EMAITZA

\_\_\_\_\_

2

**Koloretako 5 arkatz daude kutxa batean. 12 berri gehitzen baditugu eta astean zehar 8 galtzen badira, zenbat arkatz geratuko dira kutxan?**

ZER GALDETZEN DIT?

\_\_\_\_\_

DATUAK


\_\_\_\_\_  
\_\_\_\_\_  
\_\_\_\_\_  
\_\_\_\_\_

IRUDIKATU 

\_\_\_\_\_

ERAGIKETA

\_\_\_\_\_




EMAITZA

\_\_\_\_\_

3

**Jonek 6 galleta ditu eta 2 Paula bere lagunari ematen dizkio. Honek, trukean, 4 ematen dizkio. Zenbat galleta jango ditu Jonek?**

ZER GALDETZEN DIT? 

DATUAK  
\_\_\_\_\_  
\_\_\_\_\_  
\_\_\_\_\_


ERAGIKETA

IRUDIKATU 

EMAITZA

4

**Urmael batean 9 ahate daude eta goizean 2 gehiago iristen dira. Egunaren amaieran 5 badoaz, zenbat ahate geratuko dira?**

ZER GALDETZEN DIT? 

DATUAK  
\_\_\_\_\_  
\_\_\_\_\_  
\_\_\_\_\_

ERAGIKETA

IRUDIKATU 

EMAITZA



5

**Josunek 8 kanika ditu. Lehenengo partidan 5 galtzen ditu, baina bigarreanean 7 irabazten ditu. Zenbat kanika geratuko zaizkio?**

ZER GALDETZEN DIT?



DATUAK

---

---


---

---

IRUDIKATU 

ERAGIKETA

EMAITZA



6

**12 gozoki dituzu, eta eskolara bidean 7 erortzen zaizkizu. Zure laguna egoera ikusita bereak diren 4 ematen dizkizu. Zenbat gozoki dituzu orain?**

ZER GALDETZEN DIT?



DATUAK

---

---

---

---

IRUDIKATU 

ERAGIKETA

EMAITZA



7

**Lorategian, 6 lore gorri eta 4 lore hori daude. 5 eguraldi txarra dela-eta hondatzen badira, zenbat lore geratzen dira osasuntsu?**

ZER GALDETZEN DIT?


\_\_\_\_\_ ?

DATUAK

\_\_\_\_\_  
\_\_\_\_\_  
\_\_\_\_\_

IRUDIKATU 

ERAGIKETA



EMAITZA

8


**Nire logelan 17 liburu ditut. 12 oparitzen baditut eta 4 liburu berri erosten baditut, zenbat liburu izango ditut logelan?**

ZER GALDETZEN DIT?

\_\_\_\_\_ ?

DATUAK

\_\_\_\_\_  
\_\_\_\_\_  
\_\_\_\_\_

IRUDIKATU 

ERAGIKETA



EMAITZA

9

**Aparkaleku batean 28 auto daude aparkatuta. Goizean 11 auto irteten dira eta arratsaldean 16 berri sartzen dira. Zenbat auto geratuko dira guez aparkalekuan?**

ZER GALDETZEN DIT?

\_\_\_\_\_

DATUAK

\_\_\_\_\_  
\_\_\_\_\_  
\_\_\_\_\_  
\_\_\_\_\_

IRUDIKATU 

\_\_\_\_\_

ERAGIKETA

\_\_\_\_\_



EMAITZA

\_\_\_\_\_

10

**Mariak 5 panpina ditu etxean eta 4 herriko etxean. Horietariko 6 panpin oparitzen baditu, zenbat geratuko zaizkio jolasteko?**

ZER GALDETZEN DIT?

\_\_\_\_\_

DATUAK

\_\_\_\_\_  
\_\_\_\_\_  
\_\_\_\_\_  
\_\_\_\_\_

IRUDIKATU 

\_\_\_\_\_

ERAGIKETA

\_\_\_\_\_



EMAITZA

\_\_\_\_\_



11

**Baserri batean 24 behi daude eta beste 15 iritsi dira. Urtean zehar 11 ihes egiten badute, zenbat behi geratuko dira baserrian?**

ZER GALDETZEN DIT?

\_\_\_\_\_

DATUAK

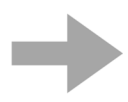
\_\_\_\_\_  
\_\_\_\_\_  
\_\_\_\_\_  
\_\_\_\_\_

IRUDIKATU 

\_\_\_\_\_

ERAGIKETA

\_\_\_\_\_



EMAITZA

\_\_\_\_\_

12

**Zoo batean 5 jirafa, 4 elefante eta 6 tximino daude. 7 animaliak ihes egiten badute, zenbat geratzen dira zoon?**

ZER GALDETZEN DIT?

\_\_\_\_\_

DATUAK


\_\_\_\_\_  
\_\_\_\_\_  
\_\_\_\_\_  
\_\_\_\_\_

IRUDIKATU 

\_\_\_\_\_

ERAGIKETA

\_\_\_\_\_



EMAITZA

\_\_\_\_\_



13

**10 puxika gorri, 6 berde eta 8 urdin badituzu eta horietako 3 esplotatzen badira, zenbat puxika geratzen dira puztuta?**

ZER GALDETZEN DIT?

\_\_\_\_\_



DATUAK

\_\_\_\_\_  
\_\_\_\_\_  
\_\_\_\_\_

IRUDIKATU

\_\_\_\_\_

ERAGIKETA

\_\_\_\_\_



EMAITZA

\_\_\_\_\_

14

**Erik ontzi batean 38 botoi biribil eta 29 karratu ditu. 13 botoi galtzen baditu, zenbat geratuko zaizkio ontzian?**

ZER GALDETZEN DIT?

\_\_\_\_\_



DATUAK

\_\_\_\_\_  
\_\_\_\_\_  
\_\_\_\_\_

IRUDIKATU

\_\_\_\_\_

ERAGIKETA

\_\_\_\_\_



EMAITZA

\_\_\_\_\_





15

**Jostailu-denda batean 34 auto eta 19 motor daude. Guztira 13 saltzen badira, zenbat geratuko dira dendan?**

ZER GALDETZEN DIT?

\_\_\_\_\_ ?

DATUAK

\_\_\_\_\_  
\_\_\_\_\_  
\_\_\_\_\_  
\_\_\_\_\_

IRUDIKATU 

\_\_\_\_\_

ERAGIKETA

\_\_\_\_\_



EMAITZA

\_\_\_\_\_

16

**Aitorrek 56€ ditu eta 85€ jasotzen ditu urtebetetzeagatik. 55€ balio duen bideojoko bat erostea erabakitzen badu, zenbat diru izango du soberan?**

ZER GALDETZEN DIT?

\_\_\_\_\_ ?

DATUAK

\_\_\_\_\_  
\_\_\_\_\_  
\_\_\_\_\_  
\_\_\_\_\_

IRUDIKATU 

\_\_\_\_\_

ERAGIKETA

\_\_\_\_\_




EMAITZA

\_\_\_\_\_



17

**Liburutegi batean zientzia fikziozko 46 liburu eta abenturazko 89 liburu zeuden. Egun horretan 38 liburu mailegatzten badira, zenbat liburu geratzen dira liburutegian?**

ZER GALDETZEN DIT? 

DATUAK  
\_\_\_\_\_  
\_\_\_\_\_  
\_\_\_\_\_  
\_\_\_\_\_


IRUDIKATU 

ERAGIKETA

EMAITZA

18

**Udaleku batean 126 mutiko eta 157 neska daude. Bigarren egunean 84 etxera itzultzen badira, zenbat geratzen dira udalekuetan?**

ZER GALDETZEN DIT? 

DATUAK  
\_\_\_\_\_  
\_\_\_\_\_  
\_\_\_\_\_  
\_\_\_\_\_

IRUDIKATU 

ERAGIKETA

EMAITZA

19

**Junek 220 kanika urdin eta 187 kanika gorri ditu. Lagunekin jolasean 97 galtzen baditu, zenbat kanika geratuko zaizkio?**

ZER GALDETZEN DIT?

\_\_\_\_\_ ?

DATUAK

\_\_\_\_\_  
\_\_\_\_\_  
\_\_\_\_\_  
\_\_\_\_\_

ERAGIKETA

IRUDIKATU 

EMAITZA

20

**Mariak 79€ zituen aurreztuta. Kalean 50€ aurkitzen ditu eta 97 €-ko zapatilak erostea erabaki du. Zenbat diru izango du soberan Mariak?**

ZER GALDETZEN DIT?

\_\_\_\_\_ ?

DATUAK

\_\_\_\_\_  
\_\_\_\_\_  
\_\_\_\_\_  
\_\_\_\_\_

ERAGIKETA

IRUDIKATU 

EMAITZA



21

**125 kamiseta eta 168 praka zeuden arropa-denda batean. Merkealdian 82 jantzi saltzen badira, zenbat geratuko dira dendan?**

ZER GALDETZEN DIT?



DATUAK

---

---

---

---

IRUDIKATU

ERAGIKETA



EMAITZA

22

**Gau Beltzan Mirenek 57 karamelu eta 38 gozoki lortzen ditu. Horietatik 40 bere anaiari ematen badizkio, zenbat geratuko zaizkio berarentzat?**

ZER GALDETZEN DIT?



DATUAK

---

---

---

---

IRUDIKATU

ERAGIKETA



EMAITZA

23

**Elektronikako denda batean, 416 telefono eta 259 tableta daude. Lapurrek 235 gailu lapurtzen badituzte, zenbat geratuko dira dendan?**

ZER GALDETZEN DIT?



DATUAK

---


---

---

---

IRUDIKATU

ERAGIKETA



EMAITZA

24

**Azoka batean 782 pertsona zeuden eta goizean zehar 105 pertsona gehiago iristen dira. Arratsaldean 596 pertsona etxera itzultzen badira, zenbat pertsona geratuko dira gauean?**

ZER GALDETZEN DIT?



DATUAK

---


---

---

---

IRUDIKATU

ERAGIKETA



EMAITZA

25

**Martak 115 zigilu ditu eta anaiak 48 gehiago ematen dizkio. 54 zigilu gastatzen badituzte urtebetetzeko gonbidapenetan, zenbat zigilu geratuko zaizkie hurrengo baterako?**

ZER GALDETZEN DIT?



DATUAK

---

---

---

---

IRUDIKATU

ERAGIKETA



EMAITZA

26

**Kutxa batean 243 bolatxo laranja eta 158 hori daude. 167 bolatxo ateratzen baditugu, zenbat bolatxo geratzen dira kutxan?**

ZER GALDETZEN DIT?



DATUAK

---

---

---

---

IRUDIKATU


ERAGIKETA



EMAITZA

27

**Liburu batek hiru kapitulu ditu; batek 86 orrialde ditu, besteak 98 eta azkena 105. 166 orrialde irakurtzen baditugu, zenbat falta zaizkigu liburua amaitzeko?**

ZER GALDETZEN DIT? 

DATUAK  
\_\_\_\_\_  
\_\_\_\_\_  
\_\_\_\_\_  
\_\_\_\_\_


IRUDIKATU 

ERAGIKETA

EMAITZA

28

**Markelek kromo bilduma bat egiten ari da. Osatzeko, 480 behar ditu, eta gaur egun 276 arrunt eta 65 berezi ditu. Zenbat kromo falta zaizkio bilduma osatzeko?**

ZER GALDETZEN DIT? 

DATUAK  
\_\_\_\_\_  
\_\_\_\_\_  
\_\_\_\_\_  
\_\_\_\_\_

IRUDIKATU 

ERAGIKETA

EMAITZA

29

**Ikastetxe batean 209 neska, 235 mutil eta 34 irakasle daude. 28 gaixo jartzen badira, zenbat pertsona joango dira eskolara egun horretan?**

ZER GALDETZEN DIT?



DATUAK

---

---

---

---

IRUDIKATU

ERAGIKETA



EMAITZA

30

**Elektronikako denda batean, 782 telebista eta 369 ordenagailu daude. Horietako 187k akatsen bat badute, zenbatek funtzionatzen dute zuzen?**

ZER GALDETZEN DIT?



DATUAK

---

---

---

---

IRUDIKATU

ERAGIKETA



EMAITZA