


BURUKETAK



SORTUZZ



1

Sarak 12 gozoki zituen eta 5 jan zituen. Zenbat gozoki geratzen zaizkizu?


ZER GALDETZEN DIT?

_____ ?

DATUAK

IRUDIKATU 

ERAGIKETA



EMAITZA

2

Urmael batean 17 ahate zeuden. Gero, 9 ahate joan ziren. Zenbat ahate geratzen dira?


ZER GALDETZEN DIT?

_____ ?

DATUAK

IRUDIKATU 

ERAGIKETA



EMAITZA

3

18 kanika dituzu eta 4 galtzen dira, zenbat kanika geratzen zaizkizu?


ZER GALDETZEN DIT?



DATUAK

IRUDIKATU

ERAGIKETA



EMAITZA

4

27 €dituzu eta 14 €balio duen jostailua erosten duzu. Zenbat diru geratzen zaizu?

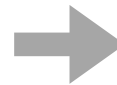
ZER GALDETZEN DIT?



DATUAK

IRUDIKATU

ERAGIKETA



EMAITZA

5

Denda batean, 35 arkatz daude, eta 18 erosten dituzte. Zenbat arkatz geratzen dira dendan?

ZER GALDETZEN DIT?




DATUAK

ERAGIKETA

IRUDIKATU

EMAITZA



6

Jonek 32 txokolate zituen eta 15 eman zizkion lagunari. Zenbat txokolate geratzen zaizkio Joni?

ZER GALDETZEN DIT?



DATUAK

ERAGIKETA

IRUDIKATU

EMAITZA



7


56 liburu bazenituen eta 23 utzi bazenizkien zure lagunei, zenbat liburu dituzu orain?

ZER GALDETZEN DIT?

DATUAK

IRUDIKATU 

ERAGIKETA



EMAITZA

8

Lorategi batean 42 lore daude. Ondoren, 19 lore biltzen dira. Zenbat lore geratzen dira lorategian?

ZER GALDETZEN DIT?

DATUAK

IRUDIKATU 

ERAGIKETA



EMAITZA

9

Martak 48 zigilu zituen eta 12 saldu zituen. Zenbat zigilu dituzu?

ZER GALDETZEN DIT?




DATUAK

ERAGIKETA

IRUDIKATU

EMAITZA



10

64 kanika badituzu eta anaiari 28 ematen badizkiozu, zenbat kanika geratzen zaizkizu?

ZER GALDETZEN DIT?



DATUAK

ERAGIKETA

IRUDIKATU

EMAITZA



11

75 gozoki zeuden poltsa batean. Gero, norbaitek 39 hartu zituen. Zenbat gozoki geratzen dira poltsan?


ZER GALDETZEN DIT?



DATUAK

IRUDIKATU

ERAGIKETA



EMAITZA

12

Baserri batean 88 behi zeuden. 31 behi saldu ziren. Zenbat behi geratzen dira baserrian?

ZER GALDETZEN DIT?



DATUAK

IRUDIKATU

ERAGIKETA



EMAITZA


13

97 puxika bazenituen eta horietatik 53 puztu baziren, zenbat geratzen dira?

ZER GALDETZEN DIT?

DATUAK

ERAGIKETA



IRUDIKATU 

EMAITZA


14

Mariak 105 panpina zituen eta 62 eman zituen. Zenbat panpina geratzen zaizkio Mariari?

ZER GALDETZEN DIT?

DATUAK

ERAGIKETA



IRUDIKATU 

EMAITZA

15

Liburutegi batean 124 abentura-liburu zeuden. 46 mailegatu ondoren, zenbat abentura liburu geratzen dira?

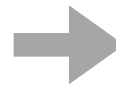
ZER GALDETZEN DIT?



DATUAK

IRUDIKATU

ERAGIKETA



EMAITZA

16

Jostailu denda batean 67 panpina zeuden. Gero, 28 saldu egin zituzten. Zenbat panpina geratzen dira dendan?

ZER GALDETZEN DIT?



DATUAK

IRUDIKATU

ERAGIKETA



EMAITZA

17

78 kromo bazenituen eta jolasten 15 galtzen badituzu, zenbat kromo dituzu orain?


ZER GALDETZEN DIT?



DATUAK

IRUDIKATU

ERAGIKETA



EMAITZA

18

120 gozoki zeuden ontzi batean. Gero, 58 banatu zenituen zure lagunen artean. Zenbat gozoki geratzen dira potoan?

ZER GALDETZEN DIT?



DATUAK

IRUDIKATU

ERAGIKETA



EMAITZA

19

**Arropa denda batean 92 kamiseta zeuden. 37 erosi zituzten.
Zenbat kamiseta geratzen dira dendan?**


ZER GALDETZEN DIT?

DATUAK

ERAGIKETA

IRUDIKATU 

EMAITZA



20

**Aitorrek 135 zigilu zituen eta 89 bere anaiari eman zizkion.
Zenbat zigilu geratzen zaizkio Aitorri?**

ZER GALDETZEN DIT?

DATUAK

ERAGIKETA

IRUDIKATU 

EMAITZA




21

97 € bazenituen eta 42 € gastatu bazenituen zapatilak erosten, zenbat diru geratzen zaizu?

ZER GALDETZEN DIT?

DATUAK

ERAGIKETA



IRUDIKATU

EMAITZA

22

78 puxika zeuden festa batean. Gero, 26 eraman zituzten. Zenbat puxika geratzen dira festan?

ZER GALDETZEN DIT?

DATUAK

ERAGIKETA



IRUDIKATU

EMAITZA

23

Liburutegi batean 98 misteriozko liburu zeuden. 61 mailegatu ondoren, zenbat misteriozko liburu geratzen dira?

ZER GALDETZEN DIT?




DATUAK

ERAGIKETA

IRUDIKATU

EMAITZA



24

Udaleku batean, 116 haur zeuden. Gero, 47 ume joan ziren etxera. Zenbat ume geratzen dira udalekuan?

ZER GALDETZEN DIT?




DATUAK

ERAGIKETA

IRUDIKATU

EMAITZA



25

79 xake-fitxa bazenituen eta 34 galdu bazenituen, zenbat xake-fitxa geratzen zaizkizu?

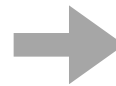
ZER GALDETZEN DIT?



DATUAK

IRUDIKATU

ERAGIKETA



EMAITZA

26

85 gozoki zeuden poltsa batean. Gero, norbaitek 29 hartu zituen. Zenbat gozoki geratzen dira poltsan?

ZER GALDETZEN DIT?



DATUAK

IRUDIKATU

ERAGIKETA



EMAITZA

27

Elektronika denda batean 94 telefono zeuden. Gau batean lapurrek 57 laburtzeko zituzten. Zenbat telefono geratzen dira dendan?

ZER GALDETZEN DIT?


_____ ?

DATUAK

ERAGIKETA

IRUDIKATU 

EMAITZA



28

Mariak 107 lore zituen lorategian. 63 saldu ondoren, zenbat lore geratzen zaizkio?

ZER GALDETZEN DIT?

_____ ?

DATUAK

ERAGIKETA

IRUDIKATU 

EMAITZA



29

89 panpina bazenituen eta 46 saltzen badituzu, zenbat panpina geratzen zaizkizu?

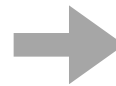
ZER GALDETZEN DIT?



DATUAK

IRUDIKATU

ERAGIKETA



EMAITZA

30

Etxalde batean 102 behi zeuden. 68 saldu ondoren, zenbat behi geratzen dira baserrian?

ZER GALDETZEN DIT?



DATUAK

IRUDIKATU

ERAGIKETA



EMAITZA