


PROBLEMAS



SORTUZZ



1

Sara tenía 12 caramelos y se comió 5. ¿Cuántos caramelos le quedan?


QUE ME PREGUNTA?



DATOS:

REPRESENTACIÓN

OPERACIONES



RESULTADO

2

En un estanque, había 17 patos. Luego, 9 patos se fueron. ¿Cuántos patos quedan?


QUE ME PREGUNTA?



DATOS:

REPRESENTACIÓN

OPERACIONES



RESULTADO

3

Si tenías 18 canicas y perdiste 4, ¿cuántas canicas te quedan?

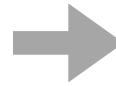
QUE ME PREGUNTA?



DATOS:

REPRESENTACIÓN

OPERACIONES



RESULTADO

4

Tienes 27€ y compras un juguete que cuesta 14 €. ¿Cuánto dinero te queda?


QUE ME PREGUNTA?



DATOS:

REPRESENTACIÓN

OPERACIONES



RESULTADO

5

En una tienda, hay 35 lápices, y compran 18. ¿Cuántos lápices quedan en la tienda?


QUE ME PREGUNTA?



DATOS:

REPRESENTACIÓN

OPERACIONES



RESULTADO

6

Juan tenía 32 chocolates y le dio 15 a su amigo. ¿Cuántos chocolates le quedan a Juan?


QUE ME PREGUNTA?



DATOS:

REPRESENTACIÓN

OPERACIONES



RESULTADO

7

Si tenías 56 libros y prestaste 23 a tus amigos, ¿cuántos libros tienes ahora?

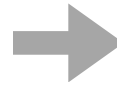
QUE ME PREGUNTA?



DATOS:

REPRESENTACIÓN

OPERACIONES



RESULTADO

8

En un jardín, hay 42 flores. Luego, 19 flores son recogidas. ¿Cuántas flores quedan en el jardín?

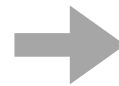
QUE ME PREGUNTA?



DATOS:

REPRESENTACIÓN

OPERACIONES



RESULTADO

9

Marta tenía 48 sellos y vendió 12. ¿Cuántos sellos le quedan?

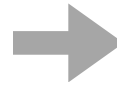
QUE ME PREGUNTA?



DATOS:

REPRESENTACIÓN

OPERACIONES



RESULTADO

10

Si tienes 64 canicas y le das 28 a tu hermano, ¿cuántas canicas te quedan?

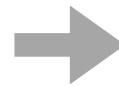
QUE ME PREGUNTA?



DATOS:

REPRESENTACIÓN

OPERACIONES



RESULTADO

11


Había 75 caramelos en una bolsa. Luego, alguien tomó 39. ¿Cuántos caramelos quedan en la bolsa?

QUE ME PREGUNTA?

DATOS:

REPRESENTACIÓN 

OPERACIONES



RESULTADO

12


En una granja, había 88 vacas. Se vendieron 31 vacas. ¿Cuántas vacas quedan en la granja?

QUE ME PREGUNTA?

DATOS:

REPRESENTACIÓN 

OPERACIONES



RESULTADO

13

Si tenías 97 globos y 53 de ellos se desinflaron, ¿cuántos globos quedan inflados?


QUE ME PREGUNTA?



DATOS:

REPRESENTACIÓN

OPERACIONES



RESULTADO

14

María tenía 105 muñecas y donó 62. ¿Cuántas muñecas le quedan a María?


QUE ME PREGUNTA?



DATOS:

REPRESENTACIÓN

OPERACIONES



RESULTADO

15

En una biblioteca, había 124 libros de aventuras. Después de prestar 46, ¿cuántos libros de aventuras quedan?


QUE ME PREGUNTA?



DATOS:

REPRESENTACIÓN

OPERACIONES



RESULTADO

16

En una tienda de juguetes, había 67 muñecos. Luego, 28 fueron vendidos. ¿Cuántos muñecos quedan en la tienda?


QUE ME PREGUNTA?



DATOS:

REPRESENTACIÓN

OPERACIONES



RESULTADO

17

Si tenías 78 canicas y jugando perdiste 15, ¿cuántas canicas tienes ahora?

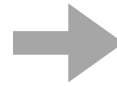
QUE ME PREGUNTA?



DATOS:

REPRESENTACIÓN

OPERACIONES



RESULTADO

18

Había 120 caramelos en un frasco. Luego, repartiste 58 entre tus amigos. ¿Cuántos caramelos quedan en el frasco?

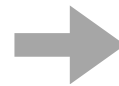
QUE ME PREGUNTA?



DATOS:

REPRESENTACIÓN

OPERACIONES



RESULTADO

19

En una tienda de ropa, había 92 camisetas. Compraron 37. ¿Cuántas camisetas quedan en la tienda?


QUE ME PREGUNTA?



DATOS:

REPRESENTACIÓN

OPERACIONES



RESULTADO

20

Juan tenía 135 sellos y le dio 89 a su hermano. ¿Cuántos sellos le quedan a Juan?


QUE ME PREGUNTA?



DATOS:

REPRESENTACIÓN

OPERACIONES



RESULTADO

21

Si tenías 97€ y gastaste 42€ en comprar unas zapatillas, ¿cuánto dinero te queda?

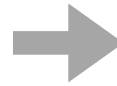
QUE ME PREGUNTA?



DATOS:

REPRESENTACIÓN

OPERACIONES



RESULTADO

22

Había 78 globos en una fiesta. Luego, se llevaron 26. ¿Cuántos globos quedan en la fiesta?

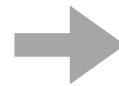
QUE ME PREGUNTA?



DATOS:

REPRESENTACIÓN

OPERACIONES



RESULTADO

23

En una biblioteca, había 98 libros de misterio. Después de prestar 61, ¿cuántos libros de misterio quedan?


QUE ME PREGUNTA?



DATOS:

REPRESENTACIÓN

OPERACIONES



RESULTADO

24

En un campamento, había 116 niños. Luego, 47 niños se fueron. ¿Cuántos niños quedan en el campamento?


QUE ME PREGUNTA?



DATOS:

REPRESENTACIÓN

OPERACIONES



RESULTADO

25

Si tenías 79 fichas de ajedrez y perdiste 34, ¿cuántas fichas de ajedrez te quedan?


QUE ME PREGUNTA?



DATOS:

REPRESENTACIÓN

OPERACIONES



RESULTADO

26

Había 85 caramelos en una bolsa. Luego, alguien tomó 29. ¿Cuántos caramelos quedan en la bolsa?


QUE ME PREGUNTA?



DATOS:

REPRESENTACIÓN

OPERACIONES



RESULTADO

27

En una tienda de electrónica, había 94 teléfonos. Luego, compraron 57. ¿Cuántos teléfonos quedan en la tienda?


QUE ME PREGUNTA?



DATOS:

REPRESENTACIÓN

OPERACIONES



RESULTADO

28

María tenía 107 flores en su jardín. Después de vender 63, ¿cuántas flores le quedan?


QUE ME PREGUNTA?



DATOS:

REPRESENTACIÓN

OPERACIONES



RESULTADO

29

Si tenías 89 muñecos y perdiste 46, ¿cuántos muñecos te quedan?

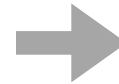
QUE ME PREGUNTA?



DATOS:

REPRESENTACIÓN

OPERACIONES



RESULTADO

30

En una granja, había 102 vacas. Después de vender 68, ¿cuántas vacas quedan en la granja?

QUE ME PREGUNTA?



DATOS:

REPRESENTACIÓN

OPERACIONES



RESULTADO