

# BURUKETAK



# HAMARTARRAK





1 Juan liburu-dendara joan zen eskolako materialak erostera. Koaderno bat (2,50 €), boligrafo bat (1,20 €) eta borragoma bat (0,85 €) erosi zituen. 5 euroekin ordaindu bazuen, zenbat diru geratu zitzaion soberan?

**GASTATZEN DUT:**

$$\begin{array}{r} 2,50 \text{ €} \\ + 1,20 \text{ €} \\ 0,85 \text{ €} \\ \hline 4,55 \text{ €} \end{array}$$

**ORDAINTZEN DUT:**

$$\begin{array}{r} 10,00 \text{ €} \\ - 4,55 \text{ €} \\ \hline 05,45 \text{ €} \end{array}$$

**SOBERAN DAUKAT:**




2 Anak fruta-dendan kilo bat sagar (1,60 €), kilo bat laranja (2,20 €) eta meloi bat (3,10 €) erosi zituen. 10 euroekin ordaindu bazuen, zenbat diru geratu zitzaion soberan?

**GASTATZEN DUT:**

**ORDAINTZEN DUT:**

**SOBERAN DAUKAT:**




3 Roberto botikara joan zen. Aspirinak (3,75 €), eztulerako xarabea (4,50 €) eta tirta-pakete bat (1,25 €) erosi zituen. 10 euroekin ordaindu bazuen, zenbat diru geratu zitzaion soberan?

**GASTATZEN DUT:**

**ORDAINTZEN DUT:**

**SOBERAN DAUKAT:**






4

Marta arropa-dendara joan zen eta kamiseta bat (12,50 €), galtzerdi batzuk (3,75 €) eta bufanda bat (5,60 €) erosi zituen. 25 euroekin ordaindu bazuen, zenbat diru geratu zitzaion soberan?

**GASTATZEN DUT:**

**ORDAINTZEN DUT:**

**SOBERAN DAUKAT:**



5

Karlos paper-dendara joan zen eta karpeta bat (1,80 €), folio-pakete bat (2,40 €) eta erregela bat (0,95 €) erosi zituen. 10 euroekin ordaindu bazuen, zenbat diru geratu zitzaion soberan?

**GASTATZEN DUT:**

**ORDAINTZEN DUT:**

**SOBERAN DAUKAT:**




6

Laura barazkiak erostera joan zen azokara. Letxuga bat (1,20 €), bi kilo tomate (2,80 €) eta azenario poltsa bat (1,50 €) erosi zituen. 10 euroekin ordaindu bazuen, zenbat diru geratu zitzaion soberan?

**GASTATZEN DUT:**

**ORDAINTZEN DUT:**

**SOBERAN DAUKAT:**





**7** Daniel gasolindegira joan zen eta botila bat ur (1,20 €), ogitarteko bat (3,50 €) eta txokolatina bat (1,30 €) erosi zituen. 10 euroekin ordaindu bazuen, zenbat diru geratu zitzaion soberan?

**GASTATZEN DUT:**

**ORDAINTZEN DUT:**

**SOBERAN DAUKAT:**



**8** Susana supermerkatuara joan zen gosaltzeko produktuak erostera. Zereal-kaxa bat (3,25 €), litro bat esne (1,05 €) eta poto bat ezti (4,75 €) erosi zituen. 10 euroekin ordaindu bazuen, zenbat diru geratu zitzaion soberan?

**GASTATZEN DUT:**

**ORDAINTZEN DUT:**

**SOBERAN DAUKAT:**



**9** Javier teknologia-dendara joan zen eta entzungailu batzuk (9,90 €), mugikorrerako zorro bat (5,50 €) eta kargagailu bat (7,60 €) erosi zituen. 25 euroekin ordaindu bazuen, zenbat diru geratu zitzaion soberan?

**GASTATZEN DUT:**

**ORDAINTZEN DUT:**

**SOBERAN DAUKAT:**





**10** Patricia maskoten dendara joan zen eta txakurrentzako pentsu-zaku bat (15,75 €), jostailu bat (4,25 €) eta uhal bat (6,40 €) erosi zituen. 30 euroekin ordaindu bazuen, zenbat diru geratu zitzaion soberan?

**GASTATZEN DUT:**

**ORDAINTZEN DUT:**

**SOBERAN DAUKAT:**



**11** Laura etxetresna elektrikoan dendara joan zen eta plantxa bat (34,95 €), irabiagailu bat (25,75 €) eta txigorgailu bat (19,30 €) erosi zituen. 100 euroekin ordaindu bazuen, zenbat diru geratu zitzaion soberan?

**GASTATZEN DUT:**

**ORDAINTZEN DUT:**

**SOBERAN DAUKAT:**



**12** Pedro brikolaje-dendara joan zen eta erreminta-kaxa bat (45,50 €), lanpara bat (28,80 €) eta pintura bat (16,70 €) erosi zituen. 100 euroekin ordaindu bazuen, zenbat diru geratu zitzaion soberan?

**GASTATZEN DUT:**

**ORDAINTZEN DUT:**

**SOBERAN DAUKAT:**





13

Ana kirol-dendara joan zen eta kirol-zapatila batzuk (49,90 €), kamiseta bat (22,45 €) eta praka motz batzuk (15,60 €) erosi zituen. 100 euroekin ordaindu bazuen, zenbat diru geratu zitzaion soberan?

**GASTATZEN DUT:**

**ORDAINTZEN DUT:**

**SOBERAN DAUKAT:**



14

Luis musika-dendara joan zen eta gitarra bat (69,50 €), gitarrarako zorro bat (18,30 €) eta afinatzaile bat (8,90 €) erosi zituen. 100 euroekin ordaindu bazuen, zenbat diru geratu zitzaion soberan?

**GASTATZEN DUT:**

**ORDAINTZEN DUT:**

**SOBERAN DAUKAT:**



15

Maria bitxi-denda batera joan zen eta erloju bat (58,75 €), eskumuturreko bat (23,20 €) eta belarritako batzuk (15,50 €) erosi zituen. 100 euroekin ordaindu bazuen, zenbat diru geratu zitzaion soberan?

**GASTATZEN DUT:**

**ORDAINTZEN DUT:**

**SOBERAN DAUKAT:**





- 16** Jorge elektronika-denda batera joan zen eta hari gabeko entzungailu batzuk (65,95 €), tableterako zorro bat (17,50 €) eta karga-kable bat (12,90 €) erosi zituen. 100 euroekin ordaindu bazuen, zenbat diru geratu zitzaion soberan?

**GASTATZEN DUT:**

**ORDAINTZEN DUT:**

**SOBERAN DAUKAT:**



- 17** Isabel altzari-denda batera joan zen eta mahai lagungarri bat (48,70 €), zutikako lanpara bat (32,40 €) eta kuxin apaingarri bat (9,95 €) erosi zituen. 100 euroekin ordaindu bazuen, zenbat diru geratu zitzaion soberan?

**GASTATZEN DUT:**

**ORDAINTZEN DUT:**

**SOBERAN DAUKAT:**




- 18** Roberto lorezaintzako denda batera joan zen eta mahuka bat (25,90 €), belar-mozteko bat (55,80 €) eta inausteko guraize batzuk (15,20 €) erosi zituen. 100 euroekin ordaindu bazuen, zenbat diru geratu zitzaion soberan?

**GASTATZEN DUT:**

**ORDAINTZEN DUT:**

**SOBERAN DAUKAT:**





19

Carla bizikleta-denda batera joan zen eta kasko bat (35,75 €), eskularru batzuk (12,40 €) eta atzeko argi bat (9,85 €) erosi zituen. Gero bizikleta bat erosi zuen (99 €). 150 euroekin ordaindu bazuen, zenbat diru geratu zitzaion soberan?

**GASTATZEN DUT:**

**ORDAINTZEN DUT:**

**SOBERAN DAUKAT:**



20

Jaime arrantza-denda batera joan zen eta kanabera bat (45,60 €), gurdi bat (22,75 €) eta amu-kaxa bat (18,50 €) erosi zituen. 100 euroekin ordaindu bazuen, zenbat diru geratu zitzaion soberan?

**GASTATZEN DUT:**

**ORDAINTZEN DUT:**

**SOBERAN DAUKAT:**




21

Marta etxetresna elektrikoan denda batera joan zen eta hozkailua (175,50 €), mikrouhin-labea (65,30 €) eta irabiagailua (35,20 €) erosi zituen. 300 euroekin ordaindu bazuen, zenbat diru geratu zitzaion soberan?

**GASTATZEN DUT:**

**ORDAINTZEN DUT:**

**SOBERAN DAUKAT:**







22

Carlos altzari-denda batera joan zen eta sofa bat (220,75 €), erdiko mahai bat (89,50 €) eta bi aulki (45,25 €bakoitza) erosi zituen. 500 euroekin ordaindu bazuen, zenbat diru geratu zitzaion soberan?

**GASTATZEN DUT:**

**ORDAINTZEN DUT:**

**SOBERAN DAUKAT:**



23

Ana teknologia-denda batera joan zen eta ordenagailu eramangarri bat (499,99 €), zorro bat (29,99 €) eta hari gabeko sagu bat (19,99 €) erosi zituen. 600 euroekin ordaindu bazuen, zenbat diru geratu zitzaion soberan?

**GASTATZEN DUT:**

**ORDAINTZEN DUT:**

**SOBERAN DAUKAT:**



24

Juan kirol-denda batera joan zen eta mendiko bizikleta bat (375,00 €), kasko bat (45,75 €) eta eskularru batzuk (22,30 €) erosi zituen. 500 euroekin ordaindu bazuen, zenbat diru geratu zitzaion soberan?

**GASTATZEN DUT:**

**ORDAINTZEN DUT:**

**SOBERAN DAUKAT:**





**25** Laura arropa-denda batera joan zen eta beroki bat (180,00 €), soineko bat (95,50 €) eta zapata batzuk (75,25 €) erosi zituen. 400 euroekin ordaindu bazuen, zenbat diru geratu zitzaion soberan?

**GASTATZEN DUT:**

**ORDAINTZEN DUT:**

**SOBERAN DAUKAT:**



**26** Pedro brikolaje-denda batera joan zen eta zerra elektriko bat (135,99 €), zulagailu bat (89,50 €) eta eskailera bat (59,99 €) erosi zituen. 300 euroekin ordaindu bazuen, zenbat diru geratu zitzaion soberan?

**GASTATZEN DUT:**

**ORDAINTZEN DUT:**

**SOBERAN DAUKAT:**




**27** Isabel bitxi-denda batera joan zen eta lepoko bat (250,00 €), eraztun bat (150,00 €) eta belarritako batzuk (95,50 €) erosi zituen. 600 euroekin ordaindu bazuen, zenbat diru geratu zitzaion soberan?

**GASTATZEN DUT:**

**ORDAINTZEN DUT:**

**SOBERAN DAUKAT:**





**28** Luis musika-denda batera joan zen eta teklatu bat (199,99 €), bozgorailu batzuk (75,50 €) eta teklaturako euskarri bat (49,99 €) erosi zituen. 400 euroekin ordaindu bazuen, zenbat diru geratu zitzaion soberan?

**GASTATZEN DUT:**

**ORDAINTZEN DUT:**

**SOBERAN DAUKAT:**



**29** Mariak maskota-denda batera joan eta txorientzako kaiola handi bat (120,00 €), pentsu-zaku bat (55,75 €) eta janleku automatiko bat (45,50 €) erosi zituen. Gero loro bat erosi zuen (250,00 €). 500 euroekin ordaindu bazuen, zenbat diru geratu zitzaion soberan?

**GASTATZEN DUT:**

**ORDAINTZEN DUT:**

**SOBERAN DAUKAT:**



**30** Javier etxetresna elektrikoan denda batera joan zen eta garbigailu bat (325,50 €), lehorgailu bat (299,99 €) eta plantxa bat (55,25 €) erosi zituen. 700 euroekin ordaindu bazuen, zenbat diru geratu zitzaion soberan?

**GASTATZEN DUT:**

**ORDAINTZEN DUT:**

**SOBERAN DAUKAT:**

